

2013年江苏省公务员考试《行测》真题卷（A卷）

注意事项

1. 本测验分为四个部分，共 105 小题，题型均为单项选择题。总时限为 120 分钟，答题时请注意合理分配时间。

2. 请按照要求在答题卡上填写好姓名，涂好准考证号。严禁折答题卡。

3. 请将题本上的条形码揭下，贴在答题卡指定位置。没有贴条形码的答题卡将按废卡处理，成绩记为零分。

4. 必须在答题卡上答题；在题本上答题，一律无效。

5. 监考人员宣布考试开始时，方可答题；宣布考试结束时，应立即停止答题。题本、答题卡、草稿纸一律留在桌上，待监考人员确认数量无误，允许离开后，方可离开考场。

如果你违反了以上任何一项要求，都将影响你的成绩。

6. 在本测验中，有些试题可能较难，请不要在一道题上思考时间太久，遇到不会答的题目，可先跳过去，如果有时间再思考，否则，你可能没有时间完成后面的题目。

7. 试题答错不倒扣分。

第一部分 言语理解与表达（共 15 题，参考时限 15 分钟）

一、片段阅读。每道题包含一段文字，要求你从四个选项选出最恰当的一项，你的选择必须与题干要求相符合。

1. 如果不在《统计法》中增加社会公众监督的实体内容与公开透明的程序规定，让统计机构脱离行政性质，建构以社会统计为主、政府监督为辅的新型统计方式，统计机构将陷入政治生态的命门中因献媚而不能自拔，这种自己评价自己的方式不仅使其“费力不讨好”的形象很难改变，甚至可能酿成大祸。

这段文字意在强调“统计机构”（ ）。

A、必须脱离行政性质 B、必须接受公众监督 C、必须规定公开程序 D、必须改变现有现象

2. 一是要逐步建设完整的居民收入和住房信息统计系统，为准入与退出机制的设计与运行提供基础数据支撑；二是要加强保障性住房申请、公示、分配等环节的透明度，并实行动态调整和持续跟踪；三是要逐步构建政府监督与社会监督、新闻媒体监督互补、互动的良好局面，确保分配公平。

上述三项措施主要针对的问题是（ ）。

A、如何建设完整的住房信息系统 B、如何加强保障性住房建设的透明度
C、如何完善保障性住房建设的监督机制 D、如何确保保障性住房的分配公平

3. 研究者持续观察发现，母雁鹅喜欢色彩艳丽、翅膀肥厚的公雁鹅，其结果是，公雁鹅变得色彩越来越艳丽，翅膀越来越肥厚。不幸的是，鲜艳的色彩使得雁鹅容易暴露，肥厚的翅膀影响飞行。本属“同种竞争”的优势，反而成为“自然竞争”的劣势。于是，一代一代下来，雁鹅在大自然中面临了灭亡的危险。

作者通过以上例证试图强调的观点是（ ）。

- A、母雁鹅的喜好是导致公雁鹅“同种竞争”的重要因素 B、“同种竞争”的优势未必有利于种群的发展
C、“同种竞争”和“自然竞争”之间大都具有矛盾关系 D、雁鹅群目前已经遭遇了重大的生存危机

4. 工艺品的核心是严格的秩序与工序，“秩序”是它的美学原理，因此易于复制。艺术品倾注了创作者的创造和力量，或观念或爱意或人生哲学，“力量”或“力量的表达”是它的美学原理，因此不易被复制。

造成艺术品与工艺品有所区别的根本原因是（ ）。

- A、复制方式不同 B、创作手法不同 C、美学原理不同 D、制作流程不同

5. 学术著作的翻译质量问题，在很大程度上关涉到我们是否有可能读懂或评价的问题，因为只有当译著具有令人满意的学术水准的前提下，我们才可能展开有效的阅读和评价。

作者通过这段文字意在强调（ ）。

- A、让人读懂是学术译著的首要目标 B、学术译著应该具有很高的学术水准
C、达到一定水准的译者才可以进行翻译 D、学术著作的翻译应该确保翻译质量

二、文章阅读。阅读下面文章，回答问题。本题共有五个小题，每道小题提供四个选项，要求你从中选出最恰当的一项，你的选择必须与题干要求相符合。

根据材料，回答 6-10 题。

20 世纪，水资源短缺尤其是水质性缺水成了世界共同面对的资源危机，生活、工业、农业污水是污水主要来源，污水处理顺理成章成为新兴朝阳产业。

污水生物处理的实质就是通过微生物的新陈代谢活动，将污水中的有机物分解，从而达到净化污水的目的。污水处理在水质改善的同时，还要求所采用技术低能耗、少资源损耗，厌氧氨氧化与亚硝化工艺相结合的氮的完全自养转换方式是一种最可持续的污水脱氮途径。厌氧氨氧化菌就是这一途径的神奇承载者。

新闻报道中称厌氧氨氧化菌叫红菌，这是为什么呢？厌氧氨氧化菌呈球形、卵形，直径约 0.8—1.1 μm ，在自然界以及废水生物处理系统中，厌氧氨氧化菌丰度很低，几乎检测不到其活性，当其在生物膜上有低活性的时候，污泥就不是通常的黑色了，呈现为灰色，驯化一段时间后，随着菌群数量的增加，污泥颜色转变为红棕色，由于厌氧氨氧化菌含有丰富的细胞色素，当其成为优势菌群时，成熟的厌氧氨氧化污泥呈现美丽的深红色，污泥颜色的变化也可用作厌氧氨氧化反应器启动进程的指示。由于这_____的红色，污水处理厂的工人们就俗称其为红菌。

但这种神奇的细菌不容易控制，采用传统的系列稀释分离、平板划线分离、显微单细胞分离等微生物分离方法都以失败告终，1999 年，荷兰科学家利用密度梯度离心的方法，第一次得到了厌氧氨氧化菌，约 200 到 800 个细胞中只含有 1 个污染细胞。遗憾的是时至今日，全世界都还未获得厌氧氨氧化菌纯培养菌株。庆幸的是众多科学家协同攻关，在 2006 年利用环境基因组学的方法完成了这一非纯培养菌株厌氧氨氧化菌的全基因组序列测定，发现 200 多个基因参与其氨氮的短程转化代谢过程。

占细胞总体积的 30% 以上的厌氧氨氧化体是厌氧氨氧化菌中最为重要的也是最独特的细胞器，目前被假定为内共生起源的细胞能量产生体，这也是第一个从原核细胞中发现的独立产能细胞器，类似于真核细胞中线粒体

的功能。厌氧氨氧化菌在缺氧条件下，无需有机物参与，可以直接将氨氮和亚硝态氮氧化成氮气，较之传统硝化反硝化反应较繁琐的电子传递过程，大大降低了能耗，是最经济的生物脱氮途径，脱氮成本仅为传统的十分之一，无疑成为污水脱氮处理的一个极富吸引力的方向。

6. 关于厌氧氨氧化菌，下列说法不符合文意的是（ ）。

- A、目前还无法通过人工方式获得这种细菌
- B、自然界污泥颜色随其菌落数量的多少而发生变化
- C、在其除污过程中厌氧氨氧化体起了非常重要的作用
- D、科学家已测定非纯培养厌氧氨氧化菌的全基因组序列

7. 关于污水处理的说法，下列不符合文意的是（ ）。

- A、污水通过脱氮处理可以得到净化
- B、水质性缺水催生了污水处理需求
- C、污水要通过微生物的新陈代谢才能得到净化
- D、厌氧氨氧化菌技术是目前最经济的污水生物处理方式

8. 作者写作本文的主要目的是（ ）。

- A、介绍厌氧氨氧化菌脱氮除污的主要过程
- B、说明厌氧氨氧化菌技术是未来污水处理的发展方向
- C、说明厌氧氨氧化菌污水处理技术的除污原理
- D、指出利用厌氧氨氧化菌进行污水处理时应注意的问题

9. 厌氧氨氧化菌污水处理技术的最大优势在于（ ）。

- A、厌氧氨氧化菌可与亚硝化工艺结合起来处理污水
- B、厌氧氨氧化菌能够在污泥中不断进行自我繁殖
- C、污泥可通过厌氧氨氧化体的硝化反应分解
- D、厌氧氨氧化菌能够直接将氨氮和亚硝态氮氧化成氮气

10. 最适合放入第三自然段划横线处的词语是（ ）。

- A、与众不同
- B、不同凡响
- C、司空见惯
- D、平淡无奇

三、选词填空。从题后所给的四个选项中选出最符合文意的一项。

11. 新一轮的城镇化，势必更加_____质量，_____要让农民进城，_____要以产业转移为依托，确保农民进城后能找到稳定的工作并享有市民待遇，真正做到安居乐业。

依次填入划横线处最恰当的一项是（ ）。

- A、注重 不仅 还
- B、关注 可是 就
- C、侧重 既然 也
- D、顾及 如果 就

12. 从_____到质疑唏嘘，从“待价而沽”到“折价而售”，“海归”们不再是所谓的“天之骄子”。当求职简历_____，当残酷的现实远不及当初设想的蓝图那么美好，他们开始反思当初的留学是否值得。

依次填入画横线处最恰当的一项是（ ）。

- A、众星拱月 石沉大海
- B、步月登云 泥牛入海
- C、坚定不移 杳无音信
- D、春风得意 如石投水

13. 网络举报是一把双刃剑,监督和隐私各有边界,如脱缰之马的“网络监督”,很多时候_____,一旦_____到普通公民的“隐私领地”或者_____集体权益,必将会使整个社会陷入不安。

依次填入划横线处最恰当的一项是()。

- A、扑朔迷离 触及 影响 B、真假难辨 践踏 危及
C、良莠不齐 侵犯 损伤 D、鱼龙混杂 闯入 伤害

14. 一般而言,史学家对史料有兴趣,文学家对铺张场景、_____气氛有兴趣,司马光的《资治通鉴》,爱好文学的人读不下去;太史公写的《鸿门宴》,史学家认为_____。

依次填入画横线处最恰当的一项是()。

- A、烘托 有失偏颇 B、制造 不忍卒读 C、描绘 堪为典范 D、渲染 不足取法

15. 文化与生命_____,与生命相渗透的前人的文化已随生命的消失而消失,我们仅是得到了它们的倒影——人类历史文化的倒影。好比我们弯腰低头俯对河水,我们看到的水中映像便_____是正相了;但是我们总得直起身来,赧颜羞色地接受这_____的倒影。

依次填入画横线处最恰当的一项是()。

- A、同在 俨然 宿命 B、共生 完全 可怕 C、伴随 必然 艰难 D、纠缠 几乎 麻木

第二部分 数量关系(共 25 题,参考时限 25 分钟)

一、数字推理。给出一个数列,缺少其中一项,要求你仔细观察数列的排列规律,从四个选项中选择最合适的一项,使之符合原数列的排列规律。

16. 2, 4, 12, 48, 240, ()

- A、1645 B、1440 C、1240 D、360

17. 3, 8, 23, 68, (), 608

- A、183 B、188 C、203 D、208

18. 2, 1, 4, 6, 26, 158, ()

- A、5124 B、5004 C、4110 D、3676

19. 7.1, 8.6, 14.2, 16.12, 28.4, ()

- A、32.24 B、30.4 C、32.4 D、40.24

20. 9, 10, 65, 26, 217, ()

- A、289 B、89 C、64 D、50

21. 12, 23, 35, 47, 511, ()

- A、613 B、612 C、611 D、610

22. -2, -2, 0, 4, 10, ()

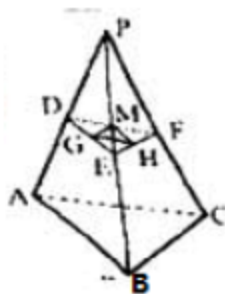
- A、12 B、15 C、16 D、18

23. 0, 4, 11, 24, 49, ()

- A、98 B、99 C、101 D、103
24. $\frac{1}{2}, 1, \frac{9}{7}, \frac{16}{11}, \frac{25}{16}, (\quad)$
- A、 $\frac{18}{11}$ B、 $\frac{21}{11}$ C、 $\frac{23}{11}$ D、 $\frac{36}{23}$
25. 9997, 7964, 3463, 8447, 5632, ()
- A、8884 B、8886 C、8887 D、8888

二、数学运算。通过运算，选择最合适的一项。

26. 一项工程，甲、乙合作 12 天完成，乙、丙合作 9 天，丙、丁合作 12 天完成。如果甲、丁合作，则完成这项工程需要的天数是 ()。
- A、16 B、18 C、24 D、26
27. 5 名学生参加某学科竞赛，共得 91 分，已知每人得分各不相同且均为整数，且最高是 21 分，则最低分为 ()。
- A、14 B、16 C、13 D、15
28. 2013 年是中国农历蛇年。在本世纪余下年份里，农历是蛇年的年份还有 ()。
- A、5 个 B、6 个 C、7 个 D、8 个
29. 如图正四面体 P-ABC 的棱长为 a，D、E、F 分别为棱 PA、PB、PC 的中点，G、H、M 分别为 DE、EF、FD 的中点，则三角形 GHM 的面积与正四面体 P-ABC 表面积之比为 ()。



- A、1:8 B、1:16 C、1:32 D、1:64
30. 一个三位数除以 53，商是 a，余数是 b (a, b 都是正整数)，则 a+b 的最大值是 ()。
- A、69 B、80 C、65 D、75
31. 一个公比为 2 的等比数列，第 n 项与前 n-1 项和的差等于 5，则此数列前 4 项之和为 ()。
- A、70 B、85 C、80 D、75
32. 长江上游的 A 港与下游 S 港相距 270 千米，一轮船以恒定速度从 A 港到 S 港需 6.75 小时，返回需 9 小时。如果一只漂流瓶从 A 港顺水漂流到 S 港，则需要的时间是 ()。
- A、84 小时 B、50 小时 C、54 小时 D、81 小时
33. 现需购买三种调料加工成一种新调料，三种调料价格分别为每千克 20 元、30 元、60 元。如果购买这三种调料所花钱一样多，则每千克调料的成本是 ()。

A、30元 B、35元 C、40元 D、60元

34. 某盐溶液 100 克，加入 20 克水稀释，浓度变为 50%，然后加入 80 克浓度为 25% 的盐溶液，此时，混合后的盐溶液浓度为（ ）。

A、30% B、40% C、45% D、50%

35. 有一类分数，每个分子与分母的和是 100，如果分子减 K ，分母加 K ，得新的分数约分后等于 $\frac{2}{3}$ ，其中 K 是正整数，则该类分数中分数值最小的是（ ）。

A、 $\frac{42}{58}$ B、 $\frac{43}{57}$ C、 $\frac{41}{59}$ D、 $\frac{39}{61}$

36. 设 $x \oplus y = 2x + 3y$ ， $x \odot y = x \cdot y$ ，且 x 、 y 均为正整数，若当 $x \odot y = 6$ 时， $x \oplus y$ 取得最小值，则 x 等于（ ）。

A、2 B、6 C、4 D、3

37. 整数 8 可以写成 1、1、2、4 这 4 个整数的和，也可以写成这 4 个整数的乘积。那么最少有多少个不等于 2008 的整数，使得它们的和等于 2008，它们的乘积也等于 2008（ ）。

A、1002 B、1004 C、1006 D、2

38. 小李驾车从甲地去乙地。如果比原车速提高 25%，则比原定时间提前 30 分钟到达。原车速行驶 120 千米后，再将车速提高 25%，可提前 15 分钟到达，则原车速是（ ）。

A、84 千米/小时 B、108 千米/小时 C、96 千米/小时 D、110 千米/小时

39. 若 $T_n = \frac{1}{\frac{1}{1+2+3+\dots+n} + \frac{1}{1+2+3+\dots+2013}}$ ，其中 n 是小于 2013 的自然数，则 T_n 的最大值是（ ）。

A、1013048 B、1013046 C、1013045 D、1013042

40. 有 89 吨货物要从甲地运往乙地，大卡车的载重量是 7 吨，小卡车的载重量是 4 吨。大卡车与小卡车每次的耗油量分别是 14 升、9 升，如果使所派车辆运完货物耗油量最小，则最小耗油量是（ ）。

A、141 升 B、162 升 C、181 升 D、193 升

第三部分 判断推理（共 40 题，参考时限 35 分钟）

一、类比推理。

（一）先给出一组有某种关系的词或词组，请你从四个选项中选出正确的一项，其关系与题干给出的词或词组的关系最为相似。

41. 翠竹：高洁（ ）

A、牡丹：华贵 B、青松：高山 C、金属：金银 D、青草：植物

42. 花草：植物（ ）

A、森林：家禽 B、牛羊：家畜 C、环境：田野 D、初春：严冬

43. 丝线：编制：花边（ ）

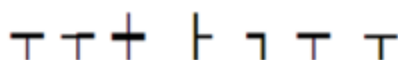
A、毛笔：描画：美景 B、竹木：铺设：浮桥 C、专家：总结：理论 D、电影：编辑：文字

(二) 请从四个选项中选出正确的一项, 使得该项的两个词或词组依次代入题干的括号中, 能够最大限度地满足题干所表达的类比关系。

44. 提出 之于 () 相当于 钻研 之于 ()
 A、疑难—研究 B、发现—学术 C、理论—技术 D、工程—思想
45. 字体 之于 () 相当于 德行 之于 ()
 A、字号—教育 B、楷书—德性 C、行距—行政 D、宋体—廉洁
46. 解决 之于 () 相当于 克服 之于 ()
 A、问题—障碍 B、顺利—惰性 C、完成—克制 D、理念—困难

(三) 请从四个选项中选出正确的一项, 其特征或规律与题干给出的一串符号的特征或规律最为相似。

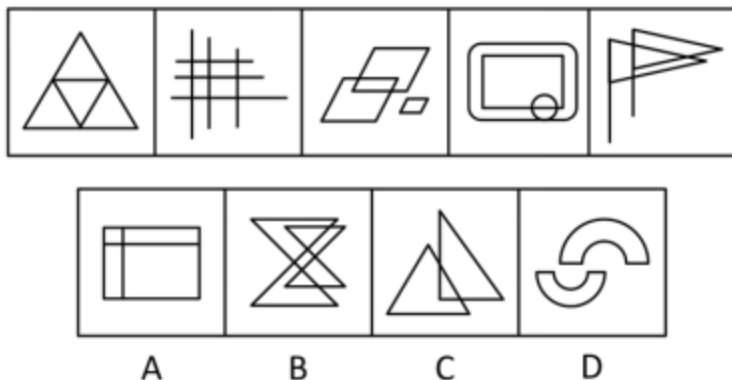
47. □◇□◇○○○○ ()
 A、○○○○●★★● B、◎●★●◎★○○ C、★○□◇★○□◇ D、◎●◎●◇○○◇
48. ab4Pab4Q ()
 A、≈≥M2≈≥N2 B、↓EFs↓EFst C、xy7Bxy7C D、λCD≠λC57
49. 请从四个选项中选出正确的一项, 其特征或规律与题干给出的一串符号的特征或规律最为相似。 ()



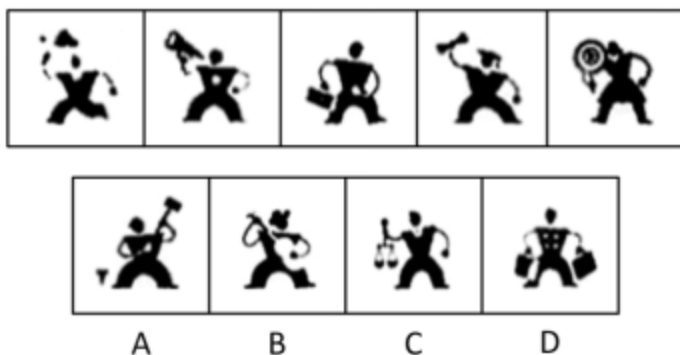
- A. 两个垂直条, 一个加号, 一个左横条, 一个右横条, 两个垂直条
 B. 加号, 左横条, 右横条, 两个垂直条, 加号, 左横条
 C. 两个垂直条, 加号, 左横条, 右横条, 两个垂直条
 D. 垂直条, 加号, 加号, 左横条, 右横条, 加号
50. DFGDFH ()
 A、IJKIJL B、MOPMOP C、QRSTQR D、UVWXWX

二、图形推理。本部分共 10 题。

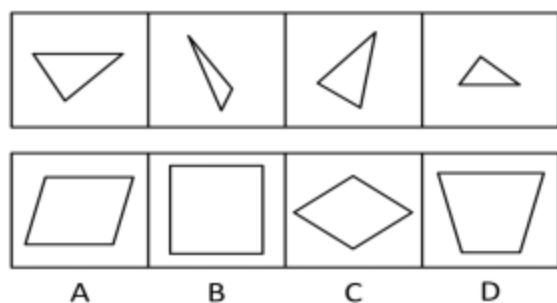
51. 请从所给的四个选项中, 选择唯一的一个答案, 使之呈现一定的规律性。 ()



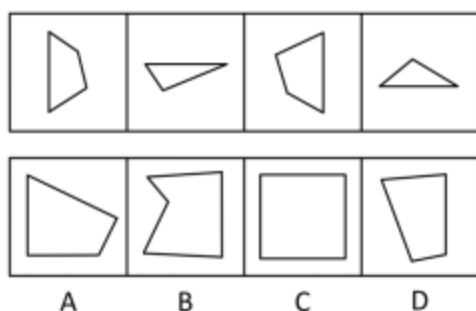
52. 请从所给的四个选项中，选择唯一的一个答案，使之呈现一定的规律性。（ ）



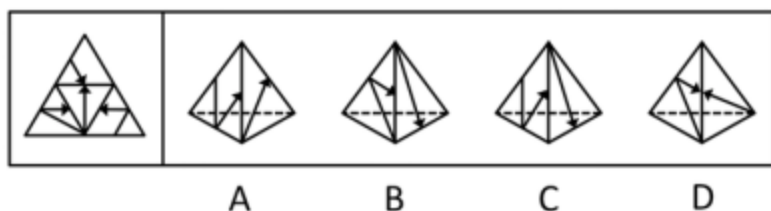
53. 请从所给的四个选项中，选择唯一的一个答案，使之呈现一定的规律性。（ ）



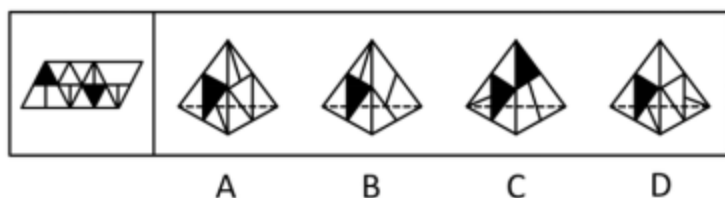
54. 右边四个图形中，只有一个是左边四个图形拼合（只能通过上、下、左、右平移）而成的，请把它找出来。（ ）



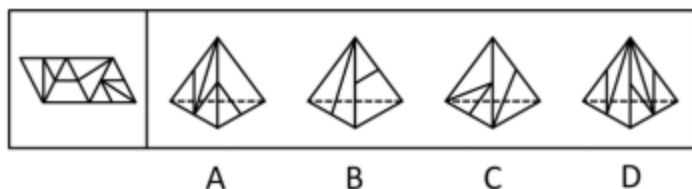
55. 左边给定的是纸盒外表面的展开图，右边哪一项能由它折叠而成？请把它找出来。（ ）



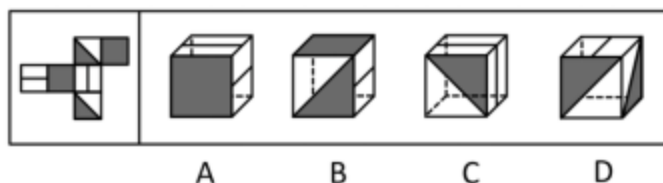
56. 左边给定的是纸盒外表面的展开图，右边哪一项能由它折叠而成？请把它找出来。（ ）



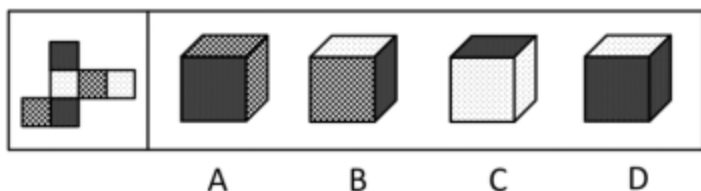
57. 左边给定的是纸盒外表面的展开图，右边哪一项能由它折叠而成？请把它找出来。（ ）



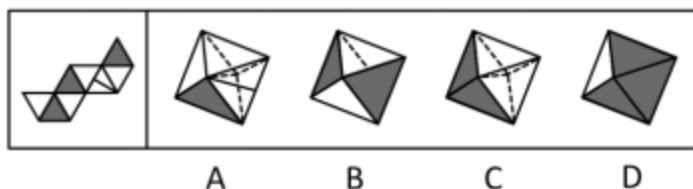
58. 左边给定的是纸盒外表面的展开图，右边哪一项能由它折叠而成？请把它找出来。（ ）



59. 左边给定的是纸盒外表面的展开图，右边哪一项能由它折叠而成？请把它找出来。（ ）



60. 给定的是纸盒外表面的展开图，右边哪一项能由它折叠而成？（ ）



三、逻辑判断。每题给出一段陈述，这段陈述假设是正确的、不容置疑的。请你根据这段陈述，选择一个正确答案。注意：正确的答案不需要任何附加说明即可以从陈述中必然推出。

61. 生活中的浪费，不管是时间的浪费还是物质财富的浪费，都意味这某种东西没有发挥出它应该发挥的价值，意味着我们的劳动和创造全部或部分做了无用功。因此，从本质上说，浪费与经济发展、生活富裕没有必然的关系，它仅仅是一种应该被彻底改变的生活陋习。

根据以上陈述，可以得出以下哪项？（ ）

- A、生活中的浪费无所不在，但改变浪费陋习却很难
- B、“舌尖上的中国”不应该出现“舌尖上的浪费”
- C、只有经济发展、生活富裕了，才有可能出现浪费现象
- D、如果我们的部分劳动打了水漂，就意味着存在浪费现象

62. 因饮酒后驾驶营运机动车或者醉酒驾驶机动车依法被吊销驾驶证的，5年内不得重新申领；因醉酒驾驶营运机动车依法被吊销驾驶证的，10年内不得重新申领；饮酒后或者醉酒驾驶机动车发生重大交通事故并构成犯罪的，终身不得申请驾驶证。

根据上述规定，可以得知以下哪项？（ ）

- A、某人饮酒后驾驶机动车，依法被吊销驾驶证，5年内不得重新申领

- B、某人醉酒驾驶机动车，依法被吊销驾驶证，10年内不得重新申领
- C、某人饮酒后驾驶营运机动车发生重大交通事故，10年内不得申请驾驶证
- D、某人醉酒驾驶营运机动车发生重大交通事故构成犯罪，终身不得申请驾驶证

63. 大多数老百姓反感官员讲官话套话，例如“高度重视”、“亲自过问”、“研究研究”等。如果不讲官话套话，一些官员就觉得无话可说或没有优越感。

根据以上陈述，可以得出以下哪项？（ ）

- A、有些老百姓去政府办事并不反感官员“亲自过问”
- B、一听到官员讲“研究研究”，有些老百姓就反感
- C、一讲“高度重视”，有些官员就会增强自身优越感
- D、官员讲话如果滔滔不绝，一般都是在讲官话套话

64. 据研究，到2013年底，全球互联网用户将达到27亿，相当于全球人口的39%。发达国家与发展中国家在互联网使用方面存在较大差异。到2013年底，发达国家将有77%的居民使用互联网，而发展中国家仅有31%的居民使用互联网。欧洲是互联网用户比例最高的地区，达75%，远远超过亚太地区（32%）和非洲（16%）。

根据以上陈述，可以得出以下哪项？（ ）

- A、发达国家的互联网用户超过发展中国家
- B、亚太地区的互联网用户超过非洲
- C、英国的互联网用户比例超过日本
- D、发展中国家互联网用户比例低于全球

65. 恐龙到底是一群呆头呆脑、行动迟缓的冷血动物，还是一群新陈代谢率高、动作敏捷的温血动物？研究发现，对此问题的不同回答存在以下四条相关证据：

- (1) 所有的恐龙都是腿部直立地“站在”地面上，这不同于那些四肢趴伏在地上的冷血爬行动物
- (2) 有些海龟的骨组织构造与哺乳动物的骨组织构造类似，而这些海龟是冷血动物
- (3) 恐龙骨骼中的骨组织构造与温血的哺乳动物的骨组织构造相类似
- (4) 鲸类、海豹等海生哺乳动物并不是直立的，但是它们都是温血动物

在以上陈述中，支持恐龙是温血动物的证据是哪几条？（ ）

- A、仅(1)
- B、(1)、(2)
- C、(1)、(3)
- D、(2)、(3)和(4)

66. 有哲学家指出，人生其实应该追求两个简单：物质生活的简单和人际关系的简单。有了这两个简单，心灵就拥有了广阔的空间和美好的宁静。但是，大多数现代人却在这两方面很复杂，物质生活上是财富的无穷追逐，人际关系上是利益的不尽纠葛，两者几乎占满了生活的全部空间，而有了这两种复杂，就产生了现代人的大部分烦恼。

根据上述哲学家的观点，可以得出以下哪项？（ ）

- A、大多数现代人的心灵或者没有广阔的空间，或者没有美好的宁静
- B、有些现代人生活很复杂，但却拥有心灵的广阔和宁静
- C、只有在物质生活或人际关系两方面简单了，现代人的大部分烦恼才不会产生
- D、如果在物质生活和人际关系两方面都简单了，现代人的大部分烦恼就不会产生

67. 经过努力，甲、乙、丙、丁等 4 位品学兼优的中学生考上了北京大学、清华大学、南京大学、东南大学等 4 所名校。9 月初，甲、丙与乙、丁分别奔赴两座不同的城市去上学了。已知：

- (1) 甲没有上北京大学 (2) 乙没有上清华大学
(3) 丙没有上南京大学 (4) 丁没有上东南大学

根据以上陈述，可以得出以下哪项？（ ）

- A、甲没有上清华大学 B、乙没有上北京大学
C、丙没有上东南大学 D、丁没有上北京大学

68. 甲、乙、丙三队进行足球循环赛。已知有下列情况：

球队	比赛场数	胜	负	平	进球	失球
甲	2	1	0	1	3	2
乙	2	1	0	1	1	0
丙	2					

根据上表情况，可以得出甲队对丙队的进球数之比是（ ）。

- A、3：1 B、3：2 C、1：0 D、0：0

69. 因工作需要，某单位决定从本单位的 3 位女性（小王、小李、小孙）和 5 位男性（小张、小金、小吴、小孟，小余）中选出 4 人组建谈判小组参与一次重要谈判，选择条件如下：

- (1) 小组成员既要有女性，也要有男性
(2) 小张与小王不能都入选
(3) 小李与小孙不能都入选
(4) 如果选小金，则不选小吴

如果小张一定要入选，可以得出以下哪项？（ ）

- A、如果选小吴，则选小余 B、如果选小金，则选小孟
C、要么选小余，要么选小孟 D、要么选小李，要么选小孙

70. 因工作需要，某单位决定从本单位的 3 位女性（小王、小李、小孙）和 5 位男性（小张、小金、小吴、小孟，小余）中选出 4 人组建谈判小组参与一次重要谈判，选择条件如下：

- (1) 小组成员既要有女性，也要有男性
(2) 小张与小王不能都入选
(3) 小李与小孙不能都入选
(4) 如果选小金，则不选小吴

如果小王和小吴都入选，可以得出以下哪项？（ ）

- A、或者选小余，或者选小孟 B、或者选小李，或者选小孙

C、如果选小李，那么选小张

D、如果选小孙，那么选小金

四、定义判断。先给你一个概念的定义，然后给出一组典型例证，要求你从中选出最符合题意的一项。注意：假设这个定义是正确的，不容置疑的。

71. 碎片式学习：指学习者通过一点一滴的方式积累或获取知识和信息。

下列不属于碎片式学习的是（ ）。

A、妈妈开车送小敏上学时，小敏常常看小人书

B、小马严格执行自己的学习计划，每天记 5 个成语典故，读一篇时文

C、某品牌手机刚上市，小刘到专卖店连夜排队，一边排队一边翻阅莫言的《蛙》

D、小顾为了完成一篇论文，每天晚上花数小时查阅相关文献

72. 约拿情结：指人们面对将获得的成功产生畏惧心理，导致不敢去做自己本来能做好的事情，甚至逃避发掘自己的潜能。

下列属于约拿情结的是（ ）。

A、小张立志要考上名牌大学，为此他定下计划，刻苦学习，三年后终于如愿以偿，考上了他心仪的大学

B、小王在乒乓球大赛中一路过关斩将进入决赛，但在决赛中技战术发挥不佳，以 3：4 的比分输掉了比赛

C、小吕口才好，反应快，知识面广，已入选校辩论队准备参加电视辩论。随着赛期的临近，小吕愈发紧张，临赛前申请退出了比赛

D、小卢对某个问题已研究多年，写成论文后想投给某刊物又恐遭拒，最终还是投给了那家刊物

73. 化归法：指在解决问题的过程中，不是直接解决原问题，而是对问题进行变形、转化，直至把它化归为某个（些）已经解决的问题，或容易解决的问题，再返回去求得原问题的解答。

下列不属于化归法的是（ ）。

A、小张通过把多边形分解为若干个三角形，求得多边形内角和

B、小吴和小文闹别扭，小吴想道歉又放不下面子，于是把前因后果告诉了小蔡，请小蔡向小文解释，小蔡解释后，小吴主动招呼小文，两人和好如初

C、小李与小江解决同一类问题方法截然不同，小李先研究特殊情况，最终解决了一般问题；而小江先解决了一般问题，然后再研究特殊情形

D、小赵采用先易后难的原则，很快完成了老师布置的一大堆物理作业

74. 无影灯效应：指通过诸多要素互相作用而形成的一种整体性机制，可将某问题的不完全或缺点部分减到最低限度，甚至消失，并最终使这一问题得到很好解决。

下列不属于无影灯效应的是（ ）。

A、某省为了杜绝医生吃医药回扣致使患者看病贵的问题，加大医药采购监督力度，开设了专门的患者热线，在各家医院的咨询服务台公布了卫生部门的举报电话

B、某城市为了形成大力发展绿色生态文明的有效机制，充分集中民众智慧，成立了公民监督委员会和环境

保护组织等，让广大人民群众更好地建言献策并发挥监督作用

C、2012年中国网民数量突破5亿，越来越多的人利用互联网媒体充分获取和传播信息，信息和民意也得到广泛的立体传播，中国正在形成透明的信息空间和舆论力量

D、某地方政府为治理公车私用顽症，特聘多名义务监督员，并配有数码相机，监督员可随时抓拍发现的疑车并将照片发送到相关网络，被拍者须对此作出合理的解释。

75. 生物灾害：指在处理微生物病原体或者包含微生物病原体的材料以及被其感染的个体时造成的对工作人员的危害或者伤害。

下列属于生物灾害的是（ ）。

A、由于抗生素的滥用，普遍细菌产生了耐药性，在经历结构变异后，变得更难治疗，或成为超级病菌，仅欧洲每年就有2万多人被感染，参与救治的多名医生被击倒

B、在自然界中，人类与各种动植物相互依存，可一旦失去平衡，灾难就会接踵而至。某地鸟、蛇被大量捕杀，结果招致老鼠泛滥成灾

C、水葫芦繁殖速度极快，大量的水葫芦覆盖河面，容易造成水质恶化，影响水底生物的生长，滇池、太湖等地均出现过水葫芦

D、由于干旱，蝗灾开始泛滥，大片芦苇叶被蝗虫吃得精光，尚未长出翅膀的成群蝗虫正向附近的草滩和农田逼近

76. 白化现象：指在正常环境下，植物由于某些内在因素不能形成叶绿素的现象。

下列属于白化现象的是（ ）。

A、某地污染几年后，人民在当地不时会发现一种污染前从未出现过的白蛇

B、某地农民发现当地向日葵的叶子变白了，这在化工厂未建时从没有发现过

C、某地是世代玉米主产区，每年都发现一些玉米的叶子因遗传而出现局部白斑

D、某人十多年前得了一种病至今未愈，皮肤、头发，甚至眉毛全都变白了

77. 蓝海战略：指跨越现有竞争边界，视线将超越竞争对手移向买方需求，对不同市场的买方价值元素筛选并重新排序，从给定结构下的定位选择向改变市场结构本身转变。

下列属于蓝海战略的是（ ）。

A、某企业将创新与效用、价格与成本整合一体，比照现有产业的最佳实践去赶超对手，瞄准现有市场“高端”或“低端”顾客，细分市场满足顾客偏好

B、某马戏团从传统马戏的儿童观众转向成年人和各界人士，以马戏的形式表达戏剧的情节，吸引人们以高于传统马戏数倍的门票来享受这项前所未有的娱乐

C、某企业正视行业圈内水质混浊、营养贫乏的现状，决定筑牢自己的“防鲨网”，人人参与市场竞争，力争在一年内“鹤立鸡群”

D、某企业充分重视现有的市场空间竞争，在推销中作降价竞争，虽然增加了销售成本或是减少了利润，但争取到了效率

78. 吸管效应：指用一根吸管吸杯中果汁，就能把管子周围的果汁都吸入，比喻在某区域植入某种“吸管”，就能聚集资源，引起明显的区域反应。

以下不属于吸管效应的是（ ）。

A、石油探矿的常识是，两个矿区的标准距离为一百公尺，中国目前在东海已经勘探八座油气田，包括“八角亭”新油气田在内

B、随着广州城市功能的向南转移，铁路新客站附近的番禺钟村、南海平洲、三山、顺德的楼价都已被推高

C、某镇凭借其纺织产业的雄厚基础，确立以纺织特色为主攻方向，纺织企业由粗放式向集约式转变，实行集群发展

D、某地几年内让现代服务业的繁荣搭配便捷交通方式，两者“二合一”，让某地成为人流、物流、资金流纷纷向往的繁华地

79. 幽默诉求广告：指通过幽默情趣来淡化广告的直接功利性，减少人们对广告所持的逆反心理，使消费者在轻松快乐中接受某种商业或文化信息。

下列属于幽默诉求广告的是（ ）。

A、某商场电子屏：您还在为手里的几张号码卡而烦恼吗？本商场隆重推出新款手机，一台手机同时装三张号码卡，手机还免费送，免去您携带多部手机的烦恼。

B、某电视汽车广告：0 油耗也能时速 200 公里！以清洁能源，甩掉碳排放对世界的压力；凭借超前科技激发电力能效，于风驰电掣中驾驭澎湃激情；通过感应地面电磁场无线充电，不受任何人牵制。

C、某杂志“幽默”栏目：一顾客对售货员大发雷霆：“自打我用了从你们这里买的生发水以后，我的头发就全脱掉了！”售货员：“一点儿不错，先生。要想长出新头发，就必须先腾出地方。”

D、某山区公路电子屏：阁下驾驶汽车，时速不超过 30 公里，可以欣赏到本地的美丽景色；超过 60 公里，请到法庭做客；超过 80 公里，请光顾本地设备最新的医院；上了 100 公里，祝您安息吧。

80. 过度探索行为：指好奇的兴趣不是随着对新事物熟悉程度的增加而下降，而是持续不减，结果造成对所着迷事物损毁的行为。

下列属于过度探索行为的是（ ）。

A、小侯对玩具遥控汽车爱不释手，而且每次都不准别人碰。就是平时最有威信的妈妈也不能碰一碰，否则就会大哭大闹

B、小南对小航模越来越喜爱，每天都要一个一个的反复把玩，他的小床上已经有 4 个不同类型的小航模散了架

C、小宝对魔方很着迷，每次吃饭的时候都要先把魔方的一面调整到同一色，有几次竟然把饭粒都掉到了魔方上

D、3 岁的小贝，有时要玩印有米老鼠图案的实心球，还要爸爸妈妈讲米老鼠踢球的故事，有时又闹着要看会说话的鹩哥

第四部分 资料分析（共 25 题，参考时限 25 分钟）

下列给出的文字、表格、图形资料均有 5 个问题要你回答，你应根据资料提供的信息进行分析、计算、处理，然后从备选答案中选择一个最恰当的答案。

一、根据以下资料，回答 81-85 题。

2012 年末，全国总人口 135404 万人。出生人口 1635 万人，人口出生率为 12.1%，比上年提高 0.17 个百分点；人口死亡率为 7.15%，比上年提高 0.01 个百分点；人口自然增长率比上年提高 0.16 个百分点。

从性别结构看，男性人口 69395 万人，女性人口 66009 万人；总人口性别比为 105.13（以女性为 100，男性对女性的比例），比上年末下降 0.05；出生人口性别比为 117.70，比上年末下降 0.08。

从年龄构成看，60 岁及以上人口 19390 万人，占总人口的 14.32%，比上年末提高 0.59 个百分点；65 岁及以上人口 12714 万人，占总人口的 9.39%，比上年末提高 0.27 个百分点；15-59 岁劳动年龄人口 93727 万人，比上年末减少 345 万人，占总人口的比重为 69.22%，比上年末下降 0.60 个百分点，比重首次下降。

从城乡结构看，城镇人口 71182 万人，比上年末增加 2103 万人；乡村人口 64222 万人，比上年末减少 1434 万人；城镇人口占总人口比重达到 52.57%，比上年末提高 1.30 个百分点。全国流动人口为 2.36 亿人，增长率比上年末提高 2.92 个百分点。年末全国就业人数 76704 万人，比上年末增加 284 万人；其中城镇就业人数 37102 万人，比上年末增加 1188 万人。

81. 2012 年全国出生的女婴数是（ ）。

- A、884 万 B、838 万 C、797 万 D、751 万

82. 2011 年全国总人口性别比是（ ）。

- A、105.18 B、105.13 C、117.70 D、117.78

83. 2011 年全国城镇人口与乡村人口之比是（ ）。

- A、0.90 B、0.95 C、1.05 D、1.15

84. 下列选项中，2012 年上升幅度最高的是（ ）。

- A、全国人口出生率 B、全国城镇就业增长率
C、全国流动人口增长率 D、全国 60 岁及以上人口占总人口的比重

85. 下列判断正确的有（ ）。

- (1) 2012 年全国死亡人口 968 万人
(2) 2008 年全国劳动年龄人口比重下降
(3) 2011 年全国 65 岁及以上人口数为 12714 万

- A、0 个 B、1 个 C、2 个 D、3 个

二、根据以下资料，回答 86-90 题。

2002-2011 年江苏金融业增加值情况如下表所示：

年份	金融业增加值		第三产业增加值		地区国内生产总值	
	绝对额(亿元)	增速(%)	绝对额(亿元)	增速(%)	绝对额(亿元)	增速(%)
2002	368.9	5.9	3891.9	11.6	10606.9	11.7
2003	392.1	6.8	4493.3	12.4	12442.9	13.6
2004	440.5	7.5	5198.0	13.4	15003.6	14.8
2005	492.4	18.9	6612.2	14.9	18598.7	14.5
2006	653.3	21.3	7914.1	15.5	21742.1	14.9
2007	1054.3	38.6	9730.9	16.4	26018.5	14.9
2008	1298.5	12.0	11888.5	13.4	30982.0	12.7
2009	1597.0	28.1	13629.1	13.6	34457.3	12.4
2010	2105.9	17.0	17131.5	13.3	41425.5	12.7
2011	2600.1	6.2	20842.2	11.1	49110.3	11.0

注：表内增速均按可比价格计算。

86. 2003-2011年九年，江苏金融业增加值年增量最多的年份是（ ）。

- A、2011年 B、2007年 C、2009年 D、2010年

87. 2003-2011年，江苏金融业增加值占第三产业增加值比重最小的年份是（ ）。

- A、2006年 B、2005年 C、2004年 D、2003年

88. 不考虑价格因素，2011年与2003年相比，江苏金融业增加值增长的倍数是（ ）。

- A、5.6倍 B、3.6倍 C、6.6倍 D、4.6倍

89. 2002-2011年十年，江苏第三产业增加值占地区国内生产总值比重的最大值是（ ）。

- A、39.6% B、41.4% C、40.1% D、42.4%

90. 若不考虑价格因素，则2003-2011年九年，江苏金融业增加值年均增速 V_J 、第三产业增加值年均增速 V_S 、地区国内生产总值年均增速 V_G 的大小关系是（ ）。

- A、 $V_S > V_J > V_G$ B、 $V_J > V_G > V_S$ C、 $V_J > V_S > V_G$ D、 $V_S > V_G > V_J$

三、根据以下资料，回答91-95题。

2012年1-11月份我国汽油、煤油、柴油产量完成情况

注：表中1月、2月相应数据略去。

月份	汽油				煤油				柴油			
	本月 (万吨)	当年累计 (万吨)	比上年同期增长(%)		本月 (万吨)	当年累计 (万吨)	比上年同期增长(%)		本月 (万吨)	当年累计 (万吨)	比上年同期增长(%)	
			本月	累计			本月	累计			本月	累计
1	-	-	-	-	-	-	-	-	-	-	-	-
2	-	-	-	-	-	-	-	-	-	-	-	-
3	710	2146	5.9	7.1	166	510	13.5	18.6	1414	4259	2.0	3.3
4	700	2846	6.3	7.7	167	677	9.1	16.1	1399	5958	0.0	3.0
5	711	3557	5.6	7.3	177	854	7.7	14.3	1446	7104	1.0	2.7
6	697	4254	9.6	7.7	164	1018	5.7	12.8	1335	8439	-2.0	2.0
7	745	4999	10.1	8.0	171	1189	4.9	11.6	1388	9827	-0.4	1.6
8	747	5746	5.8	7.7	185	1374	7.2	10.9	1374	11201	-0.5	1.3
9	765	6511	12.6	8.9	193	1567	19.1	11.9	1396	12597	5.9	1.8
10	761	7272	8.8	9.0	187	1754	24.7	13.2	1446	14043	4.8	2.0
11	804	8076	15.8	9.8	189	1943	16.1	13.4	1489	15532	5.0	2.3

91. 2012年3-11月我国汽油、煤油、柴油月产量均最小的月份是()。

- A、4月 B、5月 C、6月 D、7月

92. 2012年1-2月我国柴油产量累计是()。

- A、2835万吨 B、2845万吨 C、2855万吨 D、2865万吨

93. 2012年11月我国汽油、柴油产量之和同比增长了()

- A、6.5% B、8.6% C、10.4% D、11.9%

94. 2012年1-10月我国汽油产量累计比上年同期多()。

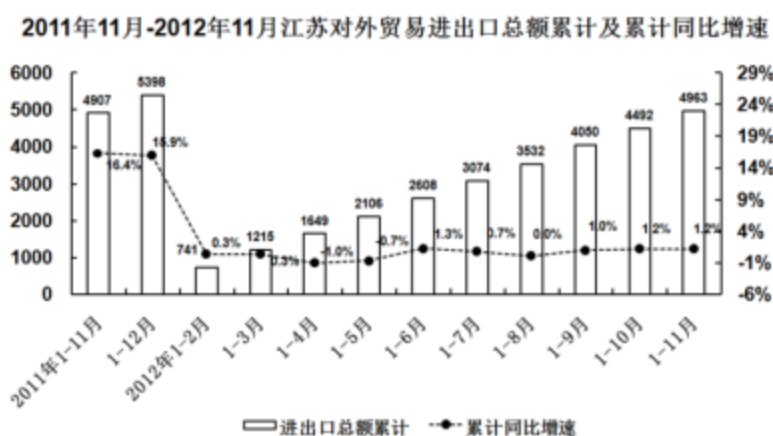
- A、600万吨 B、624万吨 C、661万吨 D、683万吨

95. 下列判断正确的有()。

- (1) 2012年6月我国柴油产量比上年同期减产27万吨
 (2) 2012年4-11月我国煤油产量月增产最多的是8月
 (3) 2012年3-11月我国汽油月产量均超过柴油月产量的一半

- A、0个 B、1个 C、2个 D、3个

四、根据以下资料，回答96-100题



96. 自 2012 年 1 月起, 江苏对外贸易进出口总额累计大于去年同期的时段有 ()。

- A、5 个 B、6 个 C、7 个 D、8 个

97. 2012 年 8 月江苏对外贸易进出口总额与上年同期相比 ()。

- A、少 21 亿美元 B、少 40 亿美元 C、多 32 亿美元 D、多 45 亿美元

98. 2012 年前 9 个月江苏对外贸易进出口总额累计与上年同期相比多 ()。

- A、50 亿美元 B、40 亿美元 C、30 亿美元 D、20 亿美元

99. 2012 年 4-11 月江苏对外贸易进出口总额月增加最多的月份是 ()。

- A、5 月 B、6 月 C、9 月 D、10 月

100. 下列判断正确的有 ()。

- (1) 2011 年 12 月江苏对外贸易进出口总额不足 2011 年的 10%
 (2) 2011 年 1-8 月江苏对外贸易进出口总额为 3532 亿美元
 (3) 2011 年 12 月-2012 年 11 月江苏最多有 2 个月的对外贸易进出口总额少于 400 亿美元

- A、0 个 B、1 个 C、2 个 D、3 个

五、根据以下资料, 回答 101-105 题

初步核算, 2012 年我国国内生产总值 519322 亿元, 扣除价格因素, 比上年增长 7.8%, 其中, 第一产业增加值 52377 亿元, 增长 4.5%; 第二产业增加值 235319 亿元, 增长 8.1%; 第三产业增加值 231626 亿元, 增长 8.1%。

2003-2011 年我国国内生产总值、人均国内生产总值及其增长数据见图 1 和图 2。

图 1: 2003-2011 年我国国内生产总值及其增长速度

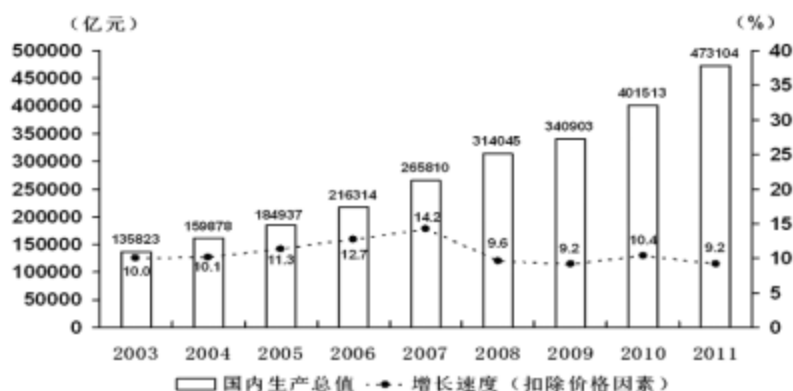
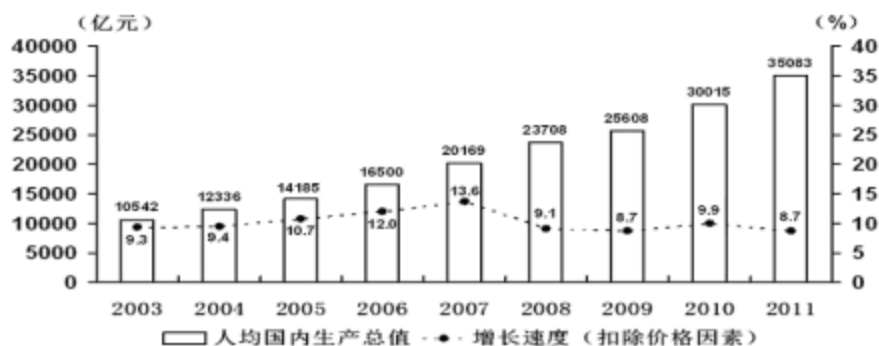


图 2: 2003-2011 年我国人均国内生产总值及其增长速度



101. 2004-2012年九年，我国国内生产总值年增加量最少的年份是（ ）。
- A、2004年 B、2009年 C、2011年 D、2012年
102. 2003-2011年九年，我国国内生产总值增速比人均国内生产总值增速至少高0.6个百分点的年数有（ ）。
- A、3年 B、4年 C、5年 D、6年
103. 2011年我国人口比上年增长了（ ）。
- A、0.2个百分点 B、0.8个百分点 C、1.1个百分点 D、1.3个百分点
104. 如果“十二五”时期我国国内生产总值与“十一五”（2006-2010年）时期保持相同的年平均增速（扣除价格因素），则“十二五”末我国国内生产总值可望达到（ ）。
- A、867819亿元 B、871717亿元 C、891980亿元 D、900230亿元
105. 下列判断正确的有（ ）。
- (1) 2004-2011年八年，我国国内生产总值与人均国内生产总值保持相同的变动态势
- (2) 2003-2011年九年，造成我国国内生产总值增速快于人均国内生产总值增速的主要原因是我国总人口在逐渐增长
- (3) 2012年我国第一产业增加值占国内生产总值的比重比2011年有所降低
- A、0个 B、1个 C、2个 D、3个