

2014年江苏公务员考试《行测》真题卷（B卷）

注意事项

1. 本测验分为四个部分，共 105 小题，题型均为单项选择题。总时限为 120 分钟，答题时请注意合理分配时间。

2. 请按照要求在答题卡上填写好姓名，涂好准考证号。严禁折答题卡。

3. 请将题本上的条形码揭下，贴在答题卡指定位置。没有贴条形码的答题卡将按废卡处理，成绩记为零分。

4. 必须在答题卡上答题；在题本上答题，一律无效。

5. 监考人员宣布考试开始时，方可答题；宣布考试结束时，应立即停止答题。题本、答题卡、草稿纸一律留在桌上，待监考人员确认数量无误，允许离开后，方可离开考场。

如果你违反了以上任何一项要求，都将影响你的成绩。

6. 在本测验中，有些试题可能较难，请不要在一道题上思考时间太久，遇到不会答的题目，可先跳过去，如果有时间再思考，否则，你可能没有时间完成后面的题目。

7. 试题答错不倒扣分。

第一部分 言语理解（共 25 题，参考时限 30 分钟）

本部分包括表达与理解两方面的内容，请根据题目要求，在四个选项中选出一个最恰当的答案。

1. 凡是符合立案条件，并已办理立案手续的所有案件，除涉及国家机密或个人隐私等不宜公开的理由外，均应当在人民法院决定立案的 7 日内在网上公示，同时告知合议庭组成人员和案件审理期限，便于当事人和社会监督，防止拖延案件审理期限，司法效率提高。

这段文字主要说明的是（ ）。

- A. 怎样提高司法工作效率
- B. 加强立案强制性的措施
- C. 案件审理期限告知方式
- D. 司法工作怎样接受社会监督

2. 目前，各种新的技术还在测试中，填埋也不是废物处理的唯一方式。垃圾的焚烧和循环利用也在许多国家的废物处理中占较大比例，而且这两种方式正在经历技术变革并日趋完善。传统意义上的循环利用，如金属、塑料机纸张的回收利用，仍然发挥较大作用。但是最快的废物循环方式往往是最简单的方法：垃圾堆肥。

从这段文字中不能得出的结论是（ ）。

- A. 垃圾焚烧正在经历技术变革并日趋完善
- B. 填埋、焚烧、循环利用是常用的废物处理方式
- C. 传统的循环利用方式包括可再生物资的回收
- D. 垃圾堆肥不久将取代其他废物循环利用方式

3. 语言的国际影响力，首先表现在多边外交等国际交往中，其次是有多少外国人把它作为外语来学习。近年来，“汉语热”的话题常现报端，孔子学院在世界各地建立，汉语国际教育有了前所未有的发展。但是就实际统计数据来看，世界上将汉语作为第二语言学习的远赶不上以英语、德语、法语为第二语言学习的人数。

这段文字意在强调（ ）。

- A. 倡导在国际交往中尽可能使用汉语
- B. 优化汉语教学方法，做大做强孔子学院

- C. 充分利用“汉语热”，推进汉语国际教育 D. 汉语的国际影响力尚有待进一步提升

4. 中国的传统廉政文化源远流长，它对历代执政者的操守要求与为政规则不外乎五个方面：重民生而知根本，畏法度而能自律，明廉耻而知气节，崇节俭而重情操，知恩惠而思报国。

下列对传统廉政文化特点的概括与文意不符的一项是（ ）。

- A. 执法如上，遵章守纪 B. 注重民生，情操高尚
C. 学识渊博，乐善好施 D. 生活简朴，严于律己

5. “以房养老”的前提是手里有房，一般来说，手头有两套以上房产的人可能更会考虑“以房养老”，而从观念上看，中青年更易接受，他们应该是未来“以房养老”的潜在群体。但近年来房价非理性上涨已经大大超出多人的承受能力，有些甚至到60岁都还不完房贷。养房都成问题，更别说以房养老了。

这段文字意在强调（ ）。

- A. 仅有一套的人不会考虑“以房养老” B. 60岁以下的人不会考虑“以房养老”
C. “以房养老”在现阶段适用人群较少 D. 推迟退休年龄或可推动“以房养老”

6. 汽车产业是一个长期性产业。不仅产业自身的发展会对经济增长具有一定的扩展或成倍的乘数效应，而且会带动金属、电气设备、橡胶等一系列相关产业的发展，极大地解决了就业问题，提升了社会福利，这反过来又会促进汽车工业的进一步发展。

这段文字主要说明的是（ ）。

- A. 汽车产业与其他相关产业的关系 B. 汽车产业与社会就业问题的关系
C. 汽车产业与产业革命进程的关系 D. 汽车产业与经济社会发展的关系

7. 这是一种痛苦的状态，不能回到过去却又对过去恋恋不舍；这也正是法律人重构中国秩序方案的焦灼所在，西方法治文明与传统内发秩序之间，依然横亘着“一湾浅浅的海峡”。“一湾浅浅的海峡”比喻的是西方法治文明与传统内发秩序之间（ ）。

- A. 一条无法跨越的鸿沟 B. 一层不可穿越的隔膜
C. 一段不可逾越的距离 D. 一道无法破解的难题

8. 许许多多的临床实验都表明抗氧化物质实际上并不能对我们的心血管系统起到改善作用。关于抗氧化物质与癌症关系的数据没那么多，但最近一次大规模的检验维生素E能否抑制癌症的实验中途就被停止了一—因为维生素E不仅没有显示出益处，反倒略微增加了前列腺癌的发病率。

这段文字预设的信息是（ ）。

- A. 心血管系统的改善与抗氧化物质无关 B. 人们认为抗氧化物质对身体健康有利的
C. 目前关于抗氧化物质的研究仍然不足 D. 可以通过增加维生素E防止前列腺癌

9. 过去一段时间，随着粮食价格的暴涨，某些国家的公司开始悄然在世界各地投资农场，收购农田。表面上，这些购买行为是为了土地，其深层目的是为了水。因为土地是与用水权联系在一起的。在大多数国家，水基本上是所属土地的一个“免费赠品”，但随着水资源的日益稀缺，水却越来越有可能成为土地交易中最有价值的一部分。

这段文字意在说明（ ）。

- A. 水是所属土地的“免费赠品” B. 抢购土地的实质是对水资源的争夺

C. 粮价暴涨引发土地产权的投资热

D. 用水权与土地权相分离成为趋势

10. 高等教育进入大众化阶段之后, 大学毕业生就业的一些规律逐渐显现出来, 认识不到的话则会误导舆论和政策。劳动经济学研究表明, 受教育程度越高, 特别是接受过大学本科以上教育之后, 求职者实现与劳动力市场的匹配所需要地时间就越长。因此, 单纯的大学毕业几个月之后的就业率并不能完全说明问题。

这段文字意在说明()。

A. 大学毕业生就业率的统计可靠性不高

B. 目前有关大学生就业难的舆论有待商榷

C. 大学毕业生找到合适工作需要一定时间

D. 求职时间长短与工作匹配程度成正比

阅读短文, 回答 11-15 题。

2013 年诺贝尔文学奖授予加拿大女作家爱丽丝·门罗。爱丽丝·门罗出生于加拿大安大略省的温格姆镇。父亲酷爱写作, 母亲身为教师。生活在这样的书香门第, 少女时代的门罗就萌生了成为小说家的梦想。

19 岁那年, 门罗还在安大略大学攻读新闻学学士学位时, 这位天赋异禀的姑娘就发表了自己的第一篇短篇小说《影子的维度》, 从此她的创作热情便一发不可收, 直到婚后数年, 门罗为人妻、为人母之后, 仍时时沉浸于自己的文学世界之中。人们很难想象, 一位少妇如何以柔弱的身躯, 在小说、孩子、书店和琐碎的家务事之间繁忙的周旋。

每当门罗回忆起这段艰涩的时光, 总忍不住叹息“真是绝望的赛跑”。万幸的是“良马终遇伯乐”, 在加拿大广播公司文学节目制作人罗伯特·韦佛的推荐下, 门罗的作品终于有机会被更多读者关注。而立之年, 门罗的文学事业逐渐走向辉煌。1968 年, 她的第一部短篇小说集《快乐影子舞》获得了加拿大文学界的最高荣誉——总督奖。评委会对她的评价是“每每读到爱丽丝·门罗的小说, 便知生命中未曾想到之事”。为了完成这部集子, 门罗用了整整 20 年。

门罗将目光流连于平凡人的生活, 她笔下的人物性格如同大海一样——忧郁、冷漠、孤傲。无论是自叙还是他叙, 叙述者总是形而上的、忧郁的, 带着远离自己生活的讽刺态度, 来描述人生的重大“坍塌时刻”。门罗擅长“打岔”, 擅长用旁敲侧击的回旋笔法, 为小说中的人物, 也为读者留下思考的空隙。“有呼吸的空隙, 这是门罗短篇小说里最优美的一手。”

这种“空隙”不是逃避, 也不是故弄玄虚。只要读过门罗的人生经历, 便会体会到空隙中流露的恻隐之之情。在经历了少女、人妻、人母, 走向老年的过程中, 门罗已经纯熟于这种处变不惊的节奏, 以贴近女性心理的笔触叙述生命的无常, 以及由此而来的身心重负。

11. 有关门罗第一篇短篇小说下列说法正确的是()。

A. 由罗伯特·韦佛的介绍才得以公开出版

B. 为门罗赢得了加拿大文学界的最高荣誉

C. 是在自己家乡读大学本科时写作和发表的

D. 小说以预知生命中即将发生的事件而著称

12. 文中“真是绝望的赛跑”是指()。

A. 经历了少女、人妻、人母阶段的重重磨难

B. 20 年含辛茹苦不停歇写完《快乐影子舞》

C. 常常在生命无常的感觉中挣扎

D. 在小说写作和家庭主妇事务之间争分夺秒

13. 从文中可以知道, 爱丽丝·门罗出生于()。

- A. 20 世纪 30 年代
B. 20 世纪 40 年代
C. 20 世纪 50 年代
D. 20 世纪 60 年代

14. 下列说法不符合文意的是（ ）。

- A. 门罗的父亲酷爱写作，母亲从事教育工作。
B. “伯乐”的推荐为门罗带来加拿大最高文学奖。
C. 门罗处变不惊的叙事节奏源于她的生活阅历。
D. 门罗擅长以旁观者的视角表现人生的变故。

15. 根据文意，门罗小说中的“空隙”所流露的主要是（ ）。

- A. 超越现实的梦想
B. 高深莫测的玄思
C. 悲天悯人的情怀
D. 虚怀若谷的胸襟

16. 要因地制宜，_____，不搞“一刀切”，不追求一步到位，允许采取差异性，过渡性的制度和政策安排。

填入划横线处最恰当的一项是（ ）。

- A. 量体裁衣
B. 因时制宜
C. 循序渐进
D. 对症下药

17. 文字是人们现实生活中的一部分，是人类思维方式，生活方式等最生动的_____。一种文字发明，演变的过程越是漫长，它所反映的这些方面的内容就越深刻。

填入划横线处最恰当的一项是（ ）。

- A. 工具
B. 形式
C. 载体
D. 记录

18. 从法官的精英化到法官的专业化，无不_____着人们对法官资格和法官职位的憧憬和理想，当前，应当建立以职业品德、专业知识、实践经验三位一体的法官培养_____标准。

依次填入划横线处最恰当的一项是（ ）。

- A. 承载 遴选
B. 寄托 挑选
C. 肩负 选取
D. 承担 入选

19. 最大程度地_____网络谣言，一方面要依赖法治力量，另一方面也需要网民尤其是所谓“网络大 V”_____高度理性和负责的精神。

依次填入划横线处最恰当的一项是（ ）。

- A. 消除 秉持
B. 去除 把持
C. 根除 维持
D. 清除 操持

20. 信息技术的发展及广泛应用是一个重大的系统工程，其日新月异的发展与_____的应用令人_____，或者有些始料未及。

依次填入划横线处最恰当的一项是（ ）。

- A. 五花八门 瞠目结舌
B. 无孔不入 无法招架
C. 无所不在 目不暇接
D. 形形色色 猝不及防

21. 人们享受着科学给生活带来新奇和益处的同时，也开始关注科学存在的风险及其对社会的影响，未来，投入市场的纳米技术创新将在清洁能源，纳米医学等有所建树，而这一全新领域的_____风险和二次影响也不可忽

29. 3, 19, 43, 79, 133, ()

- A. 169 B. 205 C. 214 D. 229

30. $1, 1, \frac{8}{7}, \frac{16}{11}, 2, ()$

- A. $\frac{36}{23}$ B. $\frac{9}{7}$ C. $\frac{32}{11}$ D. $\frac{35}{22}$

31. 甲、乙两种商品，其成本价共 200 元。如甲、乙商品分别按 20%和 30%的利润定价，并按定价的 90%出售，全部售出后共获得利润 27.7 元，则乙种商品的成本价是 ()。


- A. 120 元 B. 125 元 C. 130 元 D. 150 元

32. 在数列 $\{A_n\} (n=1, 2, \dots)$ 中, $a_1=1959, a_2=1995$, 且从第三项起, 每项是它前两项平均的整数部分, 则 $\lim_{n \rightarrow +\infty} a_n =$

()。

- A. 1980 B. 1981 C. 1983 D. 1982

33. 如图、在长方形跑道上，甲乙两人分别从 A、C 出同时出发，按顺时针方向延跑道匀速奔跑，已知甲乙两人的速度分别是 5 米/秒、4.5 米/秒。则当甲第一次追上乙时，甲延长方形跑道跑过的圈数是 ()。



- A. 4 B. 4.5 C. 5 D. 5.5

34. 有甲、乙两瓶盐水，其浓度分别为 16%和 25%；质量分别为 600 克和 240 克，若向这两瓶溶液中加入等量的水，使他们的浓度相同，则需要向这两瓶盐水中分别加入的水量为 ()。

- A. 320 克 B. 360 克 C. 370 克 D. 377 克

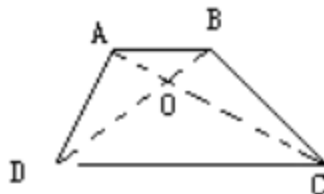
34. 一次校友聚会共有 50 人参加，在参加聚会的同学中，每个男生认识的女生的人数各不相同，而且恰好构成一串连续的自然数，已知认识女生最少的一个男生认识 15 名女生，并有一名男生认识所有的女生，则参加这次聚会的男生一共有 ()。

- A. 16 名 B. 17 名 C. 18 名 D. 19 名

36. 恰有两位数字相同的三位数一共有 ()。

- A. 243 个 B. 234 个 C. 225 个 D. 216 个

37. 如图，在梯形 ABCD 中，AB 与 CD 平行，O 为 AC 与 BD 的交点， $CO=2AO$ ，则梯形 ABCD 与 $\triangle AOB$ 的面积之比 ()。



- A. 6:1 B. 7:1 C. 8:1 D. 9:1

38. 小张的手表每天快 30 分钟，小李的手表每天慢 20 分钟，某天中午 12 点，两人同时把手表调到标准时间，则两人的手表同时显示标准时间最少需要的天数是（ ）。
- A. 24 B. 36 C. 72 D. 144
39. $76^{2013} + 25^{2014}$ 的最后两位数字是（ ）。
- A. 01 B. 91 C. 21 D. 51
40. 有一项工程，甲，乙，丙分别用 10 天，15 天，12 天可独自完成。现三人合作，在工作过程中，乙休息了 5 天，丙休息了 2 天，甲一直坚持到工程结束，则最后完成的天数是（ ）。
- A. 6 B. 9 C. 7 D. 8

第三部分 判断推理（共 40 题，参考时限 35 分钟）

本部分包括图形推理、定义判断、类比推理、逻辑判断。

一、类比推理

41. 木雕：木材（ ）
- A. 硅藻：海水 B. 果盘：水果 C. 香椿：春天 D. 米线：大米
42. 湖水：荡漾（ ）
- A. 春雨：连绵 B. 蝴蝶：花丛 C. 水草：小溪 D. 闪耀：群星
43. 种子：经得住埋没的考验（ ）
- A. 蔬菜：一种草本植物 B. 萝卜：叶子羽状分裂
C. 青苗：未来希望所在 D. 木薯：可用来制作淀粉
44. （ ）之于钢琴相当棒球之于（ ）
- A. 钢材 草坪 B. 口琴 篮球 C. 音乐 运动 D. 琴声 喝彩
45. APDDPAQQ（ ）
- A. PQDDPQAA B. APQDDAQP C. QAPPAQDD D. QAPDDAPQ
46. （ ）之于民生相当于惩治之于（ ）
- A. 民众 法律 B. 诉求 治理
C. 关注 腐败 D. 提高 环境
47. 自信之于（ ）相当于谨慎之于（ ）
- A. 自我 小心 B. 自卑 粗俗
C. 信心 束缚 D. 自大 怯懦
48. Q2Y3Q4R5Y6R（ ）
- A. D5F6D7J8F9J B. L4A5A6M7L8M
C. P3G1P4K5G6K D. U7M6U1N4M6N
49. KU1T66T1UK（ ）
- A. LK9E33E9LK B. GD4B33B4DG

C. FV5B85B8VF

D. DG3B43D4BG

50. ()

A.

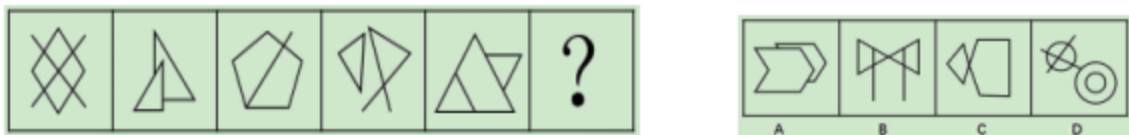
B.

C.

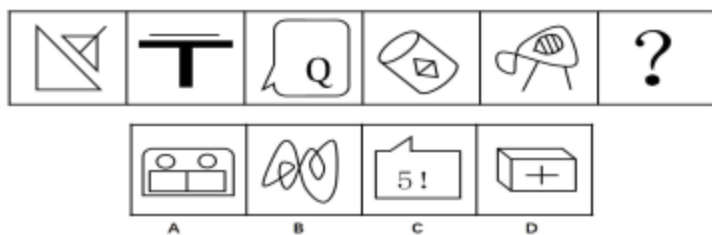
D.

二、图形推理

51. 每道题的题干中给出一套图形，其中有五个图，这五个图呈现一定的规律性。选项给出一套图形，其中有四个图，从中选出唯一的一项作为保持题干五个图规律性的第六个图。()



52. 每道题的题干中给出一套图形，其中有五个图，这五个图呈现一定的规律性。选项给出一套图形，其中有四个图，从中选出唯一的一项作为保持题干五个图规律性的第六个图。()



53. 每道题的题干中给出一套图形，其中有四个图，从中选出唯一的一项作为保持题干五个图规律性的第六个图是()。



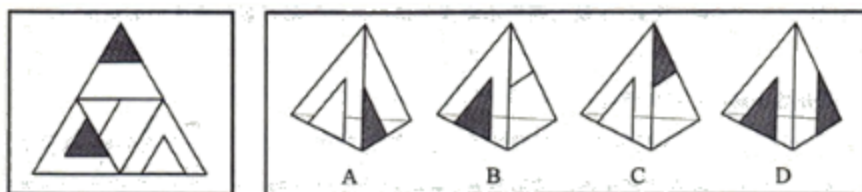
54. 四个图形中，只有一个是左边四个图形拼合而成(只能通过上、下、左、右进行移动)，请把它找出来。()



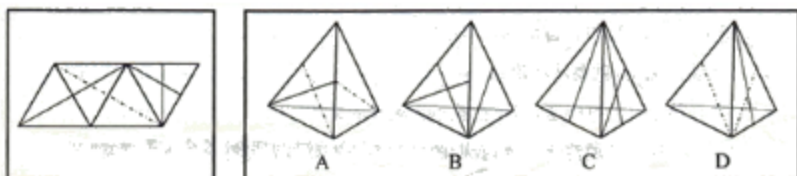
55. 四个图形中，只有一个是左边四个图形拼合而成(只能通过上、下、左、右进行移动)，请把它找出来。()



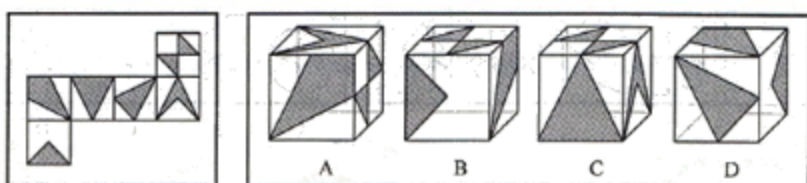
56. 左边给定的是纸盒外表面的展开图，右边哪一项能由它折叠而成？（ ）



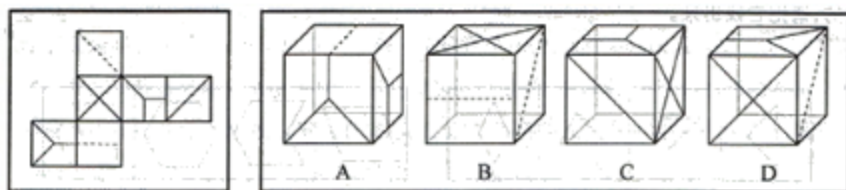
57. 左边给定的是纸盒外表面的展开图，右边哪一项能由它折叠而成？（ ）



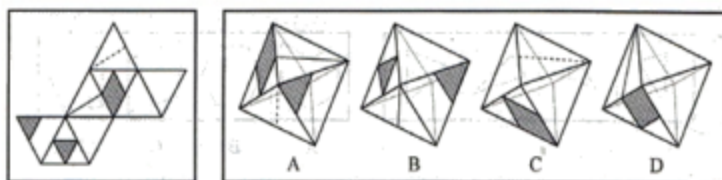
58. 左边给定的是纸盒外表面的展开图，右边哪一项能由它折叠而成？（ ）



59. 左边给定的是纸盒外表面的展开图，右边哪一项能由它折叠而成？（ ）



60. 左边给定的是纸盒外表面的展开图，右边哪一项能由它折叠而成？（ ）



三、逻辑判断

61. 党要管党，首先是要管好干部；从严治党，关键是从严治吏，干部作风存在问题，就易成为腐败的温床。唯有紧抓干部的清廉从政，坚决扫除作风之弊、行为之垢，我们的党才能永葆纯洁，才能永葆与人民群众的血肉联系。

根据以上信息，可以得出以下哪项？（ ）

- A. 如果从严治吏，就要从严治党。
- B. 如干部作风没有问题，腐败就找不到滋生的温床。
- C. 如果不紧抓干部的清廉从政，我们的党就不能永葆与人民群众的血肉联系。
- D. 如果坚决扫除作风之弊、行为之垢，我们的党就能永葆纯洁。

62. 最有希望的成功者，并不是那些才干出众的人，而是那些善于抓住每一次机遇努力去开拓奋斗的人。根据以

上信息，得不出以下哪项？（ ）

- A. 有的最有希望的成功者不是那些才干出众的人
- B. 有的才干出众的人并不是最有希望的成功者
- C. 有些才干出众的人是那些善于把握机遇的人
- D. 有些善于把握机遇的人是最有希望的成功者

63. 为什么地球、太阳等亿万个星球，亿万年来能在宇宙间相安无事地运行而不发生冲撞呢？为什么人与人之间，经常会发生磕磕碰碰的事呢？人文专家告诉我们，地球、太阳等亿万个星球都运行在自己的轨道上，都走在自己的路上，而我们人类却非如此，有的人见别人的路好走，就想去走别人的路；见别人的路近，就要去抄别人的近路。放着自己的路不走而去挤别人的路，怎么会不发生磕碰和碰撞呢？

以下哪些如果为真，最能质疑上述人文专家的言论？（ ）

- A. 每个人的路都应该是独特的，不应该交叉重叠
- B. 每个人的路都是独特的，但总有交叉重叠的部分
- C. 人生不如意事十之八九，磕碰和冲撞再平常不过
- D. 人与星球并不相同，何况星球也有磕碰和冲撞的时候

64. 购买彩票时，很多人往往愿意自己选号，不愿交由电脑随机选号，因为他们相信，中奖号码从长远看是随机产生的，但在短期内却有规律，比如前面连续多期出现的数字，这期出现的可能性就要小一些；或者某些数字对于自己意味深长，或干脆就是自己的幸运数字，选择它们应该更可能中奖。

以下哪项如果为真，最能质疑上述这些人的想法？（ ）

- A. 很多人研究彩票的中奖规律，但他们的中奖率并没有因此而显著提高。
- B. 每一期中奖号码都是独立随机产生的。彼此间没有任何内在的关联。
- C. 对于中奖号码的产生究竟有无规律，很多人持“信则有，不信则无”的观念。
- D. 电脑选号是随机的，而自己选号有特定意向，在这一点上人比电脑更聪明。

65. 目前，中国 10 个省市设置了 25 个“弃婴安全岛”。广州市的“弃婴安全岛”在开放两周内就收到弃婴 51 名，南京市的“弃婴安全岛”也在启用 2 周内收到 26 名弃婴。统计数字显示，全国“弃婴安全岛”接收的婴儿基本男女各一半，但是几乎所有弃婴都有残疾或重病，有专家就此批评指出，“弃婴安全岛”的设置助长了父母遗弃婴儿的行为。

以下哪项如果为真，最能质疑上述专家提出的批评？（ ）

- A. 设置“弃婴安全岛”时我国儿童医疗保障制度的一种有益补充。
- B. 患有残疾或重病的弃婴由于“弃婴安全岛”的设置而能得到社会及时救助。
- C. 弃婴对于家长来说实属无奈之举，忍痛遗弃孩子是希望他们得到更好救治。
- D. “弃婴安全岛”刚刚设置不久，其对婴儿父母行为的影响还有待进一步观察。

66. 小芳与小莲是一对好朋友，大刚与大勇也是，但这四人彼此间却不太熟悉。在一次机关联谊会，小芳、小莲和大刚、大勇相遇，小芳能叫出大刚的名字，但大刚却叫不出小芳的名字。凡能叫出大刚名字的人都能叫出大刚朋友的名字，凡叫不出小芳名字的人都叫不出小芳朋友的名字。

根据以上信息，可以得出以下哪项？（ ）

- A. 小莲能叫出大刚的名字
- B. 大刚能叫出小莲的名字

C. 小芳能叫出大勇的名字

D. 大勇能叫出小芳的名字

67. 某企业有甲、乙、丙、丁、午、己、庚等 7 位董事，他们执行集体决策制度。制度规定，如果赞成票数达与会人数的一半以上，一项决策就能通过，否则不能通过；每位董事必须对所有决策提案行使表决权，要么赞成，要么反对，不得弃权。再一次决策会议上。董事悉数到齐，需要对 1 号、2 号、3 号等 3 项提案进行决策表决。

已知：

- (1) 对这 3 项提案，每位董事都至少赞成一项，至少反对一项；
- (2) 甲赞成 1 号提案，但反对 2 号提案；
- (3) 乙赞成 1 号和 3 号提案；
- (4) 戊只赞成 1 号提案；
- (5) 庚反对 1 号和 2 号提案；

如果丁的选择与庚正好相反，可以得出以下哪项？（ ）

- A. 1 号提案能通过 B. 2 号提案能通过 C. 3 号提案能通过 D. 3 号提案不能通过

68. 在以下 5×5 矩阵中，每个小方格中可填入一个汉字，要求每行每列均含有金、木、水、火、土 5 个汉字，不能重复也不能遗漏。根据已经给定的条件，矩阵中①所在方格中应填入的汉字是（ ）。

	水		①	金
		木		
			木	
		土		

- A. 火 B. 水 C. 木 D. 土

阅读下列资料，回答 69-70 题。

某大学辩论协会和围棋协会两个学生社团各自对外招聘 3 名干事。报名的人有甲，乙，丙，丁，戊，己等六人。事后得知：

- (1) 每个社团均各招到 3 名干事；
- (2) 至少有 1 位报名者被两个社团同时录用；
- (3) 甲，丁两人分别被不同的社团录用；
- (4) 乙，丙两人均没有被两个社团同时录用；
- (5) 如果丁被录用，则戊一定会被录用，且两人都都在围棋协会。

69. 根据以上信息，可以得知（ ）。

- A. 甲被围棋协会录用 B. 乙被辩论协会录用
C. 丙被辩论协会录用 D. 戊被围棋协会录用

70. 如果乙没有被两社团录用，可以得出以下哪个选项？（ ）

- A. 甲被围棋协会录用 B. 丙被围棋协会录用

C. 已被辩论协会录用

D. 已被辩论协会录用

四、定义判断

71. 析词：只为了表达特殊的需要，临时把某个词拆开使用的修辞手法。下列属于析词的是（ ）。

A. 谈笑有鸿儒，往来无白丁

B. 上下四方曰宇，古往今来曰宙

C. 教学要避免疏而不导，启而不发

D. 不爱家何以爱国，不孝父母何以爱人

72. 文献老化：指科学文献随着时间的推移，有效性或有益性逐渐降低，甚至失去作为科学情报源存在的价值。

下列属于文献老化的是（ ）。

A. 某资料室近几年陆续购买了大量图书，由于管理不善，很多已经破损不堪。

B. 某科技辞典已经出版到第6版，图书馆的1978年第1版几乎无人查阅。

C. 某科技杂志1950年第1期上的一篇文章，今天看来，其测量数据误差很大。

D. 《1965年XX统计年鉴》的许多数据资料，至今仍然受到研究者的高度重视。

73. 换城消费：指由于两个城市之间交通便捷，物价高低不一，市民经常到对方城市购物的消费方式。

下列属于换城消费的是（ ）。

A. 北京市民小汪告诉记者：在北京6块钱一斤的红富士苹果，天津10元能买4个；北京80元一桶的食用油，天津才65元。

B. 每次听到珠海有商场搞促销，深圳的李女士都会兴高采烈地赶去血拼，半天时间，家里就满是她的战利品。

C. 赵女士每次从韩国回来，都在机场免税店买一大堆化妆品，这比在国内购买同一韩国品牌省不少钱。

D. 黄先生在南方某市工作了七八年，眼见物价一路狂飙，准备卖掉自家房子，和妻子一块回北方老家养老。

74. 二次留守，指农村留守儿童被父母接到城市后，由于父母每天忙于工作，孩子周围都是陌生人，没有朋友和玩伴。

下列属于二次留守的是（ ）。

A. 某城市农民工公寓聚居着大量外来工友，很多人都把孩子接到城里过暑假，天天有操各地口音的小孩在附近的小卖部、广场上一起玩耍。

B. 在某新区接到菜场里，被父母接进城的小英每天帮着卖菜的奶奶收钱，没有客人的时候，她就蹲在地上翻看连环画。

C. 暑假期间，某教育部门组织大批留守儿童进城参加夏令营活动，有的孩子还能与久别重逢的父母短暂相聚，有父母带他们游玩城市景点。

D. 进城打工的小陈夫妇把智障儿子小明带到身边，民政部门得知后把他安排到残疾人康复中心，小陈夫妇每周只能见小明一次。

75. 次生丑闻：指某地或某人曝出某个丑闻后，又连续牵出其他丑闻。

下列不属于次生丑闻的是（ ）。

A. 某市一官员的“艳照门”传得沸沸扬扬，记者在其政府网站上：核查该官员履历时，意外发现网上其他领导的视察照片居然有不少是PS的。

B. 在会场上抽天价香烟的某官员被曝光停职后，网民们继续搜索，很快发现他名下有多套来源不明的房产。

C. 新华社一篇题为《看似有隐情，共实真忽悠——盘点那些曾经的“官谣”》的文章，梳理了近年来各地出现的“官谣”案例。

D. 故宫失窃案见诸报端后，出于故宫方面应对不当，“失窃门”又牵出了“错字门”、“会所门”、“瞒报门”。

76. 隐性歧视：指存在于人的思想中、未公开显现出来的对特定群体的歧视性认识。

下列属于隐性歧视的是（ ）。

A. 戴着墨镜进居民小区的中年男子往往被保安拦住盘问。

B. 满脸大胡子、装束怪异的人往往被看成艺术家。

C. 西装笔挺、皮鞋锃亮的人常常被认为是成功人士。

D. 打扮成失学少年的乞丐往往能讨到更多的钱。

77. 邻避效应：指居民针对将要建在自家附近、可能造成环境污染的公共设施所产生的嫌恶心理。出于对健康安全的担心，居民有时会出现高度情绪化的集体抵制甚至抗争行为。

下列不属于邻避效应的是（ ）。

A. 某市建委召开 110 千伏变电站建设座谈会，当地居民拒绝参加并多次到市规划局、市环保局等单位上访，强烈反对将变电站建在自家门口。

B. 半年以来，每到城管委接访日，某村居民就会成群结队赶来上访，要求取消在该村附近建立大型垃圾中转站的计划。

C. 某地准备建设一个大型的污水处理厂，计划刚一披露就遭到了当地居民的强烈反对。

D. 某酒店准备扩建自己的停车场，与周围居民进行了多次协商，始终没能达成一致，最终放弃了扩建计划。

78. 保险储备：指企业为防备原材料运达误期或计划外增加需要量而建立的原材料储备。

下列属于保险储备的是（ ）。

A. 张大妈平时习惯多买些粮油盐放在家里，以备万一有什么事抽不开身去买。

B. 李厂长望着满仓库的滞销产品，愁容满面，心里盘算着大力扩展销售渠道的办法。

C. 洪水肆虐，道路交通受到严重威胁，刘厂长并不慌忙，因为渡过汛期的原料早已备足。

D. 王经理年前到处追债收款，给员工发放了年终奖金，也准备好了来年开工的各项资金。

79. 服务性公关：指为获取社会公众的了解和好评，树立组织的良好形象，向消费者提供各种实惠服务的公共关系活动。

下列属于服务性公关的是（ ）。

A. 某冰箱生产企业定期向客户发送食品贮存、保鲜新信息。

B. 某公司借助墙报和公司网站定期公布产品研发销售情况。

C. 某帐篷生产企业及时向某地震灾区捐助了数百顶帐篷。

D. 某著名品牌的消费者自建一个交流使用体验的 QQ 群。

80. 禁果心理：指基于对某种禁令的逆反心理而产生的强烈的探求欲望。