

2013年广州市公务员考试《行测》真题卷

一、言语理解与表达

根据题目要求，在四个选项中选出一个最恰当的答案。

1. 1989年被汉代前史书记载为“蛮荒腹地”的江西省新干县大洋洲乡，出土了大量精美的青铜器，揭开了这里三千多年前青铜文明的_____。

填入画横线部分最恰当的一项是：（ ）

- A、面具 B、面目 C、面纱 D、面容

2. 对于上海“甜爱路”上出现的种种涂鸦图案和文字，是简单地、一味地去阻止或_____，还是_____其存在和发展，也在_____我们的城管理念。

依次填入画横线部分最恰当的一项是：（ ）

- A、取消 鼓励 试验 B、无视 重视 拷问 C、打击 包容 质问 D、取缔 允许 考验

3. 从当前诸多事件的处理当中，我们可以看到政府在_____舆情时表现出越来越_____的姿态。

填入画横线部分最恰当的一项是：（ ）

- A、处置 无畏 B、应对 开放 C、对付 包容 D、控制 谨慎

4. 在过去20年间，世界经济经历了重大变化：新兴市场愈发_____，许多发展中国家增速远高于发达经济体。

依次填入画横线部分最恰当的一项是：（ ）

- A、举重若轻 B、举足轻重 C、举步维艰 D、举棋不定

5. 《史记》对后世文学影响巨大，其语言被奉为“古文”的最高成就，后世的散文，小说，戏剧等多种文体对《史记》从语言，内容、风格、结构等各个侧面来加以_____、利用和_____。

依次填入画横线部分最恰当的一项是：（ ）

- A、学习 继承 B、改良 扬弃 C、传承 规范 D、研究 抛弃

6. 上个世纪40年代，美国的大众媒介处于垄断地位。在商业利益的驱使下，媒体对国内各类社会矛盾_____，这种状况招致了社会各界的批评与不满，广大民众强烈要求传媒积极发挥正面的舆论导向作用，引导公民树立正确的价值观念。由此，“媒体的社会责任理论”_____。

依次填入画横线部分最恰当的一项是：（ ）

- A、莫衷一是 纷至沓来 B、置若罔闻 应运而生
C、群策群力 风靡一时 D、人云亦云 横空出世

7. 有的父母习惯在饭桌上表扬或批评孩子，一边吃饭，一边_____地说几句，既显得不够重视，孩子也没听进去，效果自然会差一些。

依次填入画横线部分最恰当的一项是：（ ）

- A、歇斯底里 B、浓墨重彩 C、语重心长 D、轻描淡写

8. 传媒业界认为：中国杂志也存在巨大发展空间的根本原因在于正在_____的中产阶级及他们多元化的生活方式将_____大量细分杂志。

填入画横线部分最恰当的一项是：（ ）

- A、崛起 催生 B、觉醒 派生 C、聚集 分化 D、裂变 衍生

9. 理想上，民主尊重缓慢的原则，_____要让所有受影响的人有表达机会，然后大家沟通、讨论、决策，_____是一味追求效率。

填入画横线部分最恰当的一项是：（ ）

- A、不仅 更 B、不仅 而 C、因为 更 D、因为 而

10. 交通的拥堵只是一面镜子，_____出的是面对汽车与人口激增带来的交通压力、环境压力，许多城市还没有做好准备。

依次填入画横线部分最恰当的一项是：（ ）

- A、反映 B、体现
C、折射 D、展示

11. 公益广告在我国已有 20 多年的发展历史。但长期以来，我国的公益广告在很大程度上由政府主导，其独立性和自主性不能得到充分体现，媒体多是因为行政命令而制作发布公益广告，主动承担社会责任意识较差，造成的直接结果就是公益广告活力不足，未能形成广泛的社会影响力。另外，在经济利益的驱使下，媒体将公益广告作为塑造形象的手段，造成公益广告与社会大众脱节。

这段文字主要介绍：（ ）

- A、我国公益广告发展历程
B、我国公益广告的不足和局限性
C、我国公益广告的特点
D、我国公益广告的发展方向

12. “知人论世”作为一种文学批评的原则和方法，最早由战国时期的思想家孟子提出。孟子认为，后人要交结古人，只是读其诗书是不行的，还必须了解他们的为人行事以及他们的生活的时代，这样，才能读懂古人的诗书，才能和古人心契神交，成为知音。

对这段话的理解，不正确的是：（ ）

- A、人的心灵是可以互通和共鸣的
B、免疫系统受到抑制的人很可能罹患癌症
C、免疫系统一旦发现癌细胞就会向大脑传递信息
D、未来的抗癌技术可能产生于对免疫系统的研究

13. 在学习压倒一切的评价体系下，孩子们面临着严重的伙伴关系缺失和游戏缺失。中国青少年心理成长基地的专家表示，现实给不了的东西在网络中可以轻松获得，然而孩子一旦接触到网络，便会被其

深深吸引。如果缺乏自制力和正确引导，孩子就可能沉迷进去而无法自拔。

文中的“现实给不了的东西”指的是：（ ）

- A、自我认可
- B、学习压力下的放松
- C、自制力和正确的引导
- D、伙伴关系和游戏

14. 目前，流动人口虽然进入城市工作生活，但未能真正融入城市社会。制度的隔离客观上强化了人口的地缘、乡缘、亲缘关系，加剧社会分化，在城市内部出现了新的二元结构。一些城市流动人口与户籍人口倒挂，外来人口与本地人口存在经济利益冲突，极易激发社会矛盾。流动人口家庭成员长期分离，造成儿童监护失责、情感缺失、婚姻不稳定、留守老人和妇女受侵害等问题，影响家庭幸福和社会长治久安。

以上文段意在说明：（ ）

- A、制度的隔离使流动人口不可能融入城市社会
- B、流动人口的进入会导致市内部出现二元结构
- C、让流动人口真正融入城市，社会才能长治久安
- D、解决流动人口家庭成员分离问题是瓦解城市二元结构的关键所在

15. 长期以来，我们把加班加点作为员工爱岗敬业的体现。一个同志加班加点工作，超额完成任务，甚至一个人干三个人的活，当然值得肯定，其精神和热情不容亵渎。我们国家发展快，经济高速增长，与各行各业加班加点“蔚然成风”分不开；说中国的发展成就是中国人勤奋努力、辛辛苦苦干出来的，一点都不为过。这应该是加班加点“利”的一面。

根据以上文段，我们可以得知作者对加班加点的看法不包括：（ ）

- A、加班加点是员工爱岗敬业的体现，应大力提倡
- B、员工加班加点的精神和热情值得肯定
- C、加班加点也可能存在着“弊”的一面
- D、加班加点已经成为各行各业的普遍风气

16. 好官不光要廉洁奉公，还要能办实事。人民期待的是“改革官”、“有为官”，而不是“庸官”，这可谓切中部分干部不敢干事、不敢创新、怕承担责任的思想障碍。如果没有一个宽容、和谐的干事创业环境，干部在工作上就会畏首畏尾，不敢超越和探索，更不敢改革创新。看到一些同志因失误而被问责，就会心存畏惧。要推动干部敢想敢干，就要坚持“三个区分”即要把先行先试的失误与明知故犯区分开来，把探索性试验与有法不依区分开来，把无意过失与谋取私利区分开来。

以上文段意在说明：（ ）

- A、建立明辨官员探索创新行为的机制，才能让干部敢想敢干
- B、建立宽松的干事创业环境，才能让干部在工作上不至于如履薄冰
- C、好官不但要廉洁奉公，而且要敢于创新、有担当

D、对于官员干部犯错，人民应该有所区分、有所包容

17. 文化创意产业是综合文化、创意、科技、资本、制造等要素的一种新业态。美国人靠一杯水（可口可乐），一个面包（麦当劳），一块芯片（英特尔）和一只小老鼠（迪斯尼）做出了创意大产业，这些产业所产生的利润和影响，远远超过了他们的汽车、钢铁等产业。

以下选项符合原文意思的一项是：（ ）

- A、文化创意产业是一种前瞻性、综合性的业态
- B、可口可乐和麦当劳是美国文化创意产业的代表之一
- C、文化创意产业在美国已经取代汽车、钢铁产业的地位和作用
- D、美国的汽车、钢铁业正在走向衰亡

18. 虽然当下的大学自主招生考试受到的非议颇多，然而，走过十年路程的大学自主招生考试，大概还是要年复一年地继续考下去。毕竟，自主招生考试对于恢复大学人才选拔的功能，真正将符合自身育人理念的可造之才选拔到大学中来，还是有着积极意义和明显功效的。复旦大学表示，占该校本科生30%的自主招生胜出者，他们在学业成绩、创新意识和创新能力等方面的表现大多数要比其他学生胜出一筹。

大学自主招生考试能够继续考下去是因为它：（ ）

- A、能够克服非议
- B、能够选拔全能型的综合人才
- C、具备更突出的人才选拔功效
- D、有助于创新大学的人才选拔机制

19. 因为电子书的盛行，顾客改变了消费习惯，很多书店经营困难。但书店通过卖书还能赚钱，是因为书店不只是一个卖书的地方，还能提供面对面的交流。只有面对面的交流，才是真正的交流，才能不断增进人情。

以下不符合上述文字意思的是：（ ）

- A、电子书的出现造成书店经营困难
- B、人们可以在书店进行面对面的交流
- C、书店仍然有继续存在的必要性
- D、书店除了卖书还经营其他业务

20. 美国内战之后，倡导公共健康的人们曾呼吁政府提供更多公共空间——被称作“悬浮池塘”的泳池由此诞生。当时河水清洁，人们可直接在河中洗浴。但随着工业化进程，工厂向河中排污增多，政府最终不得不关停了大部分泳池。即便剩下来的“悬浮池塘”，也由过去直接引入河水，转向关闭闸门从外面引入纯净的水。

根据上述文字，下列说法错误的是：（ ）

- A、人们需要更多公共空间是“悬浮池塘”出现的原因
- B、“悬浮池塘”刚出现时是直接引入河水
- C、大部分“悬浮池塘”因为环境污染而被迫关闭
- D、“悬浮池塘”就是河中的公共洗浴区域

21. 四年前，中国经济受金融危机冲击的时刻，消费券作为刺激内需的政策建议曾被广泛讨论，杭州、成都等地的实践也收到了一定效果。但大规模发行消费券有一定要求，其产生的影响也非常复杂，杭州、成都等局部试点城市取得的效果并不具有普遍的代表意义。

以上文段意在说明：（ ）

- A、杭州和成都试点推行消费券取得成效只是偶然事件
- B、消费券对刺激内需有明显作用
- C、我国还不能大规模推行消费券
- D、在其他城市推行消费券不可能取得像杭州、成都一样的成效

22. 企业应该具有正确的经营观念和使命观。如果公司的基本思想和方针是明确的，那么经营者就能够据此施行强有力的领导，而且每个人都能够根据这一基本思想和方针去判断是非，这样容易培养出人才。反之，经营者对部下的领导就会缺乏一贯性，很可能被每时每刻的情势变化或个人情感所左右，不利于培养人才。

以上文段意在说明：（ ）

- A、强有力的领导是企业培养人才的必要条件
- B、明确的使命观和经营观念有利于企业培养人才
- C、经营者应该尽量不让个人感情和情势变化对自己的决策产生影响
- D、企业如果没有明确的经营观念和使命观，经营者将无法施行强有力的领导

23. 利用跨国公司在东道国“技术溢出”效应获得先进的技术，是大多数发展中国家引进跨国公司投资的重要目标之一。然而对于跨国公司来说，技术优势又是其获得垄断地位或竞争优势的关键。因此他们也会采取相应的技术垄断与控制，防止技术过度扩散，以充分发挥其垄断优势，获取高额回报。因此，对于发展中国家来说，_____。

最适合填入上文横线处的语句是：（ ）

- A、需要打破跨国公司的垄断地位，消除其垄断优势
- B、应正确认识跨国公司的技术转移可行性
- C、引进跨国公司投资对于东道国的经济发展存在巨大的负面效应
- D、需要采取有效应对措施，提升跨国公司的技术溢出效应

24. 对于以下文段的排序，最合理的是：（ ）

- ①“发思古之幽情”，不仅使人感伤于昔日的兴衰往事，还能使人们从中汲取教益，陶冶性情，抒发情怀。
- ②多少诗人词家讴歌咏唱，留下了动人的诗篇，更增添了古迹的光彩。
- ③古往今来，不知拨动了多少人的心弦，引发了多少人的沉思。
- ④历史文化古迹，有着十分巨大的魅力。

⑤三国时期的魏、蜀、吴赤壁大战，孙、刘联盟以少胜多，击败曹操 83 万军马，体现这一重大历史事件的赤壁古迹，被世代传下来。

- A、⑤①②④③ B、④⑤①②③ C、④③①⑤② D、⑤②③④①

25. 对以下文段的排序，最合理的是：（ ）

- ①身负执政责任的政府官员要依法行政，必须学习法律，了解法律
②法治是现代社会最主要的特征之一，敬畏法律是官员起码的执政修养
③如果官员们都能依法行政，自觉、主动地把自己“关进笼子里跳舞”，在法律面前战战兢兢地行使自己的权力，那么，一个法治政府的形象才有可能真正矗立起来，一个真正的法治社会才会逐渐成为现实
④敬畏法律，就要依法行政
⑤但是，依法行政的前提是懂法。如果领导干部自己是法盲，依法行政就无从谈起

- A、②④⑤①③ B、③⑤②①④ C、②③④①⑤ D、④①②③⑤

二、数量关系

在这部分试题中，每道题呈现一段表述数字关系的文字，要求你迅速、准确地计算出答案。

26. 少年宫学习美术、舞蹈和唱歌专业的学生共有 90 人，美术和舞蹈专业的学生比例为 2: 3，舞蹈和唱歌专业的学生比例为 3: 4，则学生人数最多的专业有多少人：（ ）

- A、25 B、30 C、35 D、40

27. 某学校组织活动进行队列训练，学生们组成一个 25 排的队列，后一排均比前一排多 4 个人，最后一排有 125 个学生。则这个队列一共有多少个学生？（ ）

- A、1925 B、1875 C、2010 D、1765

28. 某工厂生产一批零件，原计划每天生产 100 个，因技术改进，实际每天生产 120 个。结果提前 4 天完成任务，还多生产 80 个。则工厂原计划生产零件多少个：（ ）

- A、2520 B、2600 C、2800 D、2880

29. 某人将一套房屋以购入价的 3 倍在房产中介处放盘。他告诉中介，一周内签约的买家其成交价能比放盘价再便宜 5 万元，并愿意在支付成交价 3% 的中介费的基础上，再多支付 1 万元给中介。若该房屋在一周内以 100 万元的价格成交，那么，此人在这套房屋上盈利多少万元：（ ）

- A、66 B、65 C、61 D、58

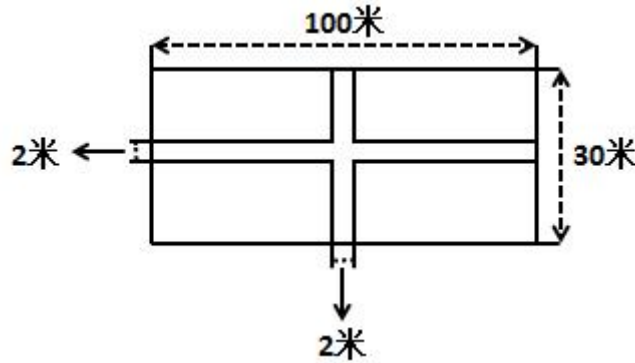
30. 某社区服务中心每个月均对居民进行“社区工作满意度”调查。经对比发现，2 月份的居民满意度是 85 分，比 1 月份上升了 20%，3 月份的居民满意度又比 2 月份下降了 20%。则 3 月份的居民满意度和 1 月份相比：（ ）

- A、两个月持平 B、3 月份比 1 月份高 4%

C、1月份比3月份高4%

D、3月份比1月份低4%

31. 如图所示，有一块长100米、宽30米的长方形空地需要铺草皮，空地中间预留一条宽2米的走道铺设水泥板。已知草皮每平方米50元，水泥板每平方米40元，草皮和水泥板均可以切割拼装。购买铺完这块空地所需的水泥板和草皮共需花费多少元？（ ）



A、147440

B、147400

C、146860

D、146820

32. 某饼店一种成本为1.4元的点心卖2元一份，每天没卖完的点心会在晚上8点后半价促销，全部卖完。已知一个月30天中，平均有15天每天晚上8点前可卖出100份点心，而其余15天每天晚上8点前只能卖出60份。如果饼店每天做的点心数量相同，一个月能够获得的最大利润是多少元：（ ）

A、1080

B、1200

C、1320

D、1440

33. 一艘船在河水流速为每小时15公里的河中央抛锚，停在码头下游60公里处。一艘时速为40公里的救援船从码头出发前去拖船，已知救援船拖上另一艘船后，船速将下降 $\frac{1}{4}$ 。救援船从码头出发，一共需要大约多少小时才能将抛锚的船拖回码头？（ ）

A、3

B、3.5

C、4

D、5.1

34. 某公司规定，门窗每3天擦拭一次，绿化植物每5天浇一次水，消防设施每2天检查一次。如果上述三项工作刚好集中在星期三都完成了，那么下一次三项工作集中在同一天完成是在：（ ）

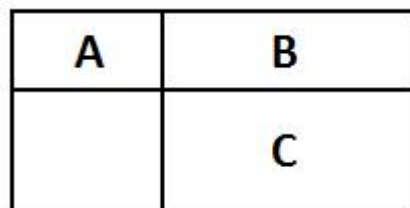
A、星期一

B、星期二

C、星期四

D、星期五

35. 如图所示，一个长方形的场地要分割成4块长方形区域进行分区活动。测量得知，区域A、B、C的面积分别是15、27、36平方米。则这块长方形场地的总面积为多少平方米？（ ）



A、84

B、92

C、98

D、100

36. 用混凝土铺设一条宽度为20米的马路，每两包水泥可以制造1立方米混凝土。使用现有的水泥，如果按照20厘米的混凝土厚度铺设马路，工程完成后剩余4600包水泥；如果按照50厘米的混凝土厚度

度铺设马路，就还缺 5000 包水泥。则这条马路长多少米：（ ）

- A、800 B、850 C、920 D、1000

37. 一个杯子最大的容量是 500 毫升，甲将杯子装满水，喝了部分后又加入了杯子容量 $\frac{1}{5}$ 的水，之后甲又将杯子里一半的水用来浇花。这时，杯子里还剩下 200 毫升水。则甲喝了多少毫升水：（ ）

- A、100 B、150 C、200 D、250

38. 某部队组织新兵从甲地到乙地进行长途拉练。去的时候第一天走 25 公里，以后每天都比前一天多走 5 公里，结果最后一天只走 25 公里便到达了目的地。回程时，第一天走 35 公里，以后还是每天比前一天多走 5 公里，结果最后一天只走 30 公里便回到出发地。则甲乙两地相距多少公里：（ ）

- A、175 B、200 C、225 D、250

39. 某书店按阶梯价格出售一批书，原价每本 15 元，10 本以下部分按原价计算，第 11 本至第 20 本按原价九折计算，第 21 本至第 30 本部分按原价八折计算，折扣以此类推，但最低只能为五折。则用 1000 元最多可以买多少本书：（ ）

- A、66 B、95 C、103 D、111

40. 某单位前台有两个窗口，办理业务的人员要先到 1 号窗口审核资料，审核通过的才可以到 2 号窗口

缴费。已知平均一份资料的审核时间为 1.5 分钟，且审核通过率仅有 $\frac{1}{3}$ ，而一份资料的缴费时间仅为 50 秒。假设前台共有 10 名工作人员，且各窗口的人员数量固定，则 1 号窗口应安排多少人，才能使得前台运作效率最高：（ ）

- A、9 B、8 C、7 D、6

三、常识判断

根据题目要求，在四个选项中选出一个最恰当的答案。

41. 笔墨纸砚的制作历史悠久，历代都有著名的制品和艺人。安徽泾县（旧属宣城郡或宣州）就以生产什么而闻名：（ ）

- A、笔 B、墨 C、纸 D、砚

42. 以下措施不能起到扩大内需作用的是：（ ）

- A、实施国民休闲计划，给予民众更多的节假日
B、提高银行的存款利率
C、国家加大基础设施建设力度
D、政府给予购买家电的民众以旧换新补贴

43. 下列个人收入中，与其它三项性质不同的是：（ ）

- A、工资 B、稿费 C、加班费 D、存款利息

44. “寒江雪柳日新晴，玉树琼花满目春。历尽天华成此景，人间万事出艰辛。”这首诗描绘的是什么的美景：（ ）
- A、吉林雾凇 B、桂林山水 C、云南石林 D、长江三峡
45. 法国国歌《马赛曲》原是一名战士创作的战歌，它诞生于哪个时期？（ ）
- A、法国资产阶级大革命 B、第一次世界大战
C、第二次世界大战 D、滑铁卢战役
46. 日常生活中有许多省电的技巧。以下做法，不能省电的是：（ ）
- A、经常清洗空调进风口处的过滤网 B、用同等亮度的 LED 灯代替节能灯
C、把新、旧电池接在一起使用 D、冰箱内尽量多放或放满食物
47. 现在人们越来越关注餐桌上的健康。用餐时，使用什么餐具对人体更健康：（ ）
- A、铝制餐具 B、不锈钢餐具
C、可降解泡沫饭盒 D、素色的陶瓷餐具
48. 以下洗涤剂用品，最为环保的是：（ ）
- A、洗衣液 B、洗衣粉
C、肥皂 D、衣物漂白剂
49. 树木的年轮不仅记录着树的年龄，而且指示着方向。年轮一般总是一面稀疏、一面密集。那么，在中国北方平原上的树木，年轮密集的一面指向的是：（ ）
- A、东向 B、西向
C、南向 D、北向
50. 人类利用杠杆原理发明了各种各样的工具，使工作生活更加便利。以下工具中，使用杠杆原理的目的与其他三项不同的是：（ ）
- A、扫帚 B、手推车
C、开瓶器 D、扳手
51. 大马士革刀是古代_____等国军队的主要兵器。（ ）
- A、波斯 B、蒙古
C、俄国 D、新西兰
52. 第一次世界性的经济危机起源于：（ ）
- A、英国 B、美国
C、法国 D、荷兰
53. 根据下列叙述，这位人物是：（ ）
- (1) 他是东汉末年著名医学家
(2) 他创造了“五禽戏”

(3) 他被历来的医家推崇为“外科鼻祖”

- A、李时珍 B、华佗 C、张仲景 D、孙思邈

54. “晕轮效应”是指人们在评价一样事物时，受事物的某种突出特征影响而产生的以点代面、以偏概全的心理效应。下面能体现这种效应的是：（ ）

- A、情人眼里出西施 B、心有灵犀一点通
C、柳暗花明又一村 D、无心插柳柳成荫

55. 下列成语所描述的历史事件发生时间最早的是：（ ）

- A、乌江自刎
B、挟天子以令诸侯
C、完璧归赵
D、焚书坑儒

四、判断推理

本部分包括常识判断、类比推理、演绎推理、图形推理四种类型的试题。

56. 规避：风险（ ）

- A、开怀：畅饮 B、弹冠：相庆 C、控制：管理 D、防止：灾害

57. 拉杆箱：手提袋（ ）

- A、茶杯：茶叶 B、球鞋：凉鞋 C、电脑：书桌 D、桌子：衣柜

58. 长寿：年龄（ ）

- A、时间：速度 B、距离：长度 C、炎热：温度 D、举止：风度

59. 脑袋：心脏（ ）

- A、头颅：人体 B、方向盘：发动机 C、司令：军队 D、神经：血清

60. 空前：规模（ ）

- A、有序：市场 B、配合：默契 C、激烈：挑衅 D、协同：发扬

61. 销量：（ ） 相对于 （ ）： 体质

- A、价格：营养 B、利润：强壮 C、需求：气质 D、数量：能力

62. 三心：两意（ ）

- A、五脏：六腑 B、朝令：夕改 C、惊世：骇俗 D、信誓：旦旦

63. 预约：拜访：礼貌（ ）

- A、刷卡：签名：密码 B、评议：考察：廉政
C、取证：起诉：公正 D、实习：入职：晋升

64. 烟花：夜空（ ）

A、铅笔：橡皮 B、财富：银行 C、胶卷：相片 D、火车：轨道

65. 清醒：失眠（ ）

A、健康：病愈 B、杀戮：血腥 C、繁衍：生育 D、探索：发明

66. 有数据表明，自“酒驾”入刑以来，由于“酒驾”而导致的交通事故已经下降了40%。因此，刑罚比思想教育在塑造人们的行为方面更有效。

以下信息如果为真，能够最有效反驳上述结论的是：（ ）

- A、部分因“酒驾”被判刑的人员在获释后依然还有“酒驾”行为
- B、大部分民众表示自己由于考虑到“酒驾”可能造成的严重后果而放弃了“酒驾”行为
- C、自“酒驾”入刑以来，因“酒驾”而导致的严重交通事故并没有明显减少
- D、自“酒驾”入刑以来，社会各界均加大了对“酒驾”严重后果的宣传和教育力度

67. 参议员克林顿一直抱怨“男女工资存在差距”，现实情况是男性平均每小时的报酬为1美元，而女性只有78.5美分。有政治家指出男女工资存在差距是由于男权主义造成的，在同样的工作岗位上，企业家愿意为男性付出更多的报酬。

以下哪项叙述为真，则最能反驳以上论证：（ ）

- A、平均工资是以所有具备工作能力的从业和待业人员作为基数算出的，而女性选择专职照顾家庭的人数远远超过男性
- B、基于成本考虑，企业家在相同岗位上应该选取岗位报酬更低的女性而不是男性
- C、在同样的工作岗位上，女性企业家也愿意为男性付出更多的报酬
- D、在脑力工作中，男性与女性的工作水平没有差别

68. 人们常说“品牌瓶装水品质更好”。美国广播电视网做了一个口味测试：把不同品牌的瓶装水和纽约市中心的公用饮用水装入同样的杯子中，要求人们对这些水进行品尝并评定等级，结果评价最低的是一种品质受到广泛认可的某品牌瓶装水。

以下最能解释以上矛盾现象的是：（ ）

- A、人们会根据价格因素来判断商品的好坏
- B、不同品牌的瓶装水的口感确实存在着差异
- C、纽约市中心的公用饮用水已经达到了瓶装水的品质
- D、物品包装会影响人们对其品质的评定

69. 研究表明，当前的汽车尾气处理技术已经比以往提升了不少，尾气排放量的污染物几乎全在探测水平之下。但有环保组织依然在设法消除世界上所有的汽车，他们说：“一切都是因为汽车，汽车污染了空气，损害了我们的肺。”

以下信息如果为真，最能对环保组织的行为进行解释的是：（ ）

- A、汽车尾气处理技术的提升是环保组织多年来不断努力的结果

B、根据环保部门绘制的近 30 年的空气污染图，在这段时间里，汽车行驶里程增加了 170%，但空气污染程度下降了 54%

C、随着全球汽车需求量的不断增大，汽车厂商在马不停蹄地生产各类汽车，而每辆汽车的生产过程会产生大量废气

D、汽车检测中心的数据显示，保养不当的废旧汽车产生的尾气含有大量污染物

70. 有媒体报道：近 10 年来，有关癌症病患者的报道日趋增多。可见我们的生活变得越来越危险了，我们每天都饱受各种机器产生的辐射和各种有害化学物质的侵害，这些辐射和化学侵害都是致癌的祸首。

以下选项如果为真，能够反驳以上论述的是：（ ）

A、机器和化学物质给我们带来了各种便利，让我们节省下更多时间来享受生活

B、随着工业发展，各种大型厂房进驻某地，附近村落的癌症发病率比以往显著提高

C、随着医学技术的不断进步，癌症病患者的生存时间更长，而且更多的人愿意谈及癌症这个话题了

D、媒体总是喜欢报道骇人听闻的言论来吸引眼球，增加销售量

71. 由于网络相亲的方式便捷且有更多选择，如今，不少人热衷于通过相亲网站来寻找自己的另一半。但是，反对者们认为，仅仅通过点击鼠标就能轻易找到伴侣，这段感情的未来也将更加充满变数，因此网络相亲不可取。

下列选项中，最有助于支持反对者们的观点的研究结果是：（ ）

A、个人在情感选择过程中投入的时间、精力越少，其情感的稳固程度越低

B、据统计，采用熟人介绍相亲方式相识并结婚的成功率最高

C、当选择更多时，个人倾向于将自己的择偶条件简单化，决定将更加草率

D、情感选择中过多的“备选项”，容易使人放弃自己已经选定的目标

72. 一种经济理论指出，经济增长和环境质量之间呈现一种“倒 U 型”关系，也就是先恶化，后改进。开始时，随着经济的增长，居民收入不断增加，环境开始恶化；但是当经济增长到一定程度后，环境质量开始逆转，并不断变好。

下列信息如果为真，可以验证这一理论是否成立的是：（ ）

A、A 国经济发达，其国家的环境质量经历了从恶化到逐渐恢复的过程

B、B 国是传统农业国家，近年来由于采用机械作业，国民经济快速发展，但自然环境没有明显变化

C、为了保证可持续发展，C 国政府决定，宁可降低国家经济增长速度，也不再破坏自然环境

D、由于国际经济形势恶化，近年来，D 国国民收入不断下降，但环境质量并没有好转

73. 为了避免商业机密外泄，企业会与核心技术员工签订劳动协议，约定员工在离开本企业后的三年内

不得在其他企业的同类技术岗位中从业。可以预见，核心技术员工们为了保住工作，只能在一个企业一直干下去。

要作出上述推论，必需的前提是：（ ）

- A、企业不会给离职后由于协议约定而无法从业的核心技术员工经济补偿
- B、除了同类技术岗位，核心技术员工无法获得其他岗位的工作机会
- C、在其他条件相同的情况下，核心技术员工倾向于选择熟悉的工作环境
- D、所有的核心技术员工都愿意与企业签订此类协议

74. 购买了商业医疗保险的人，因为可以报销医疗费，就会放任那些可能导致疾病发生的不良行为和嗜好，比如酗酒、不运动等。

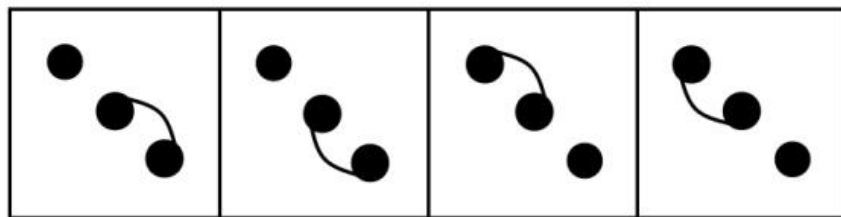
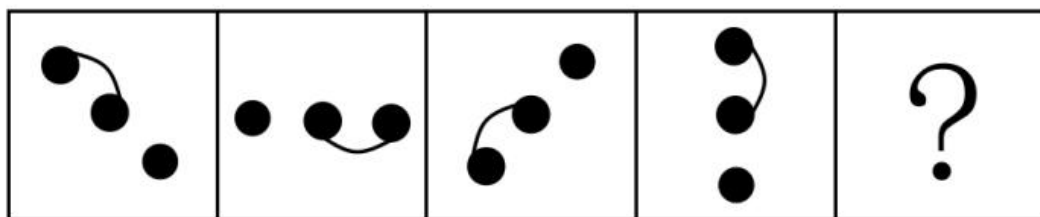
以下哪项最能构成对于上述结论的质疑：（ ）

- A、人们普遍认为，疾病所造成的损失远非报销医疗费所能弥补
- B、从保险公司报销的金额不足以支付全部的医疗费
- C、商业医疗保险的报销范围包括因不良行为和嗜好导致的疾病
- D、有不良行为和嗜好的人群几乎不会购买商业医疗保险

75. 城市水网的管理是个难题，要发现城市水网的问题，只能通过水管工人们的个人经验判断或者是他们的实地调查，此外别无他法。根据以上信息，我们可以确定：（ ）

- A、没有水管工人将无法发现城市水网的问题
- B、如果不进行实地调查就不可能发现城市水网的问题
- C、水管工人的个人经验判断足以发现城市水网的问题
- D、进行实地调查就可以发现城市水网的问题

76. 请选择最合适的一项填入问号处，使之符合之前四个图形的变化规律：（ ）



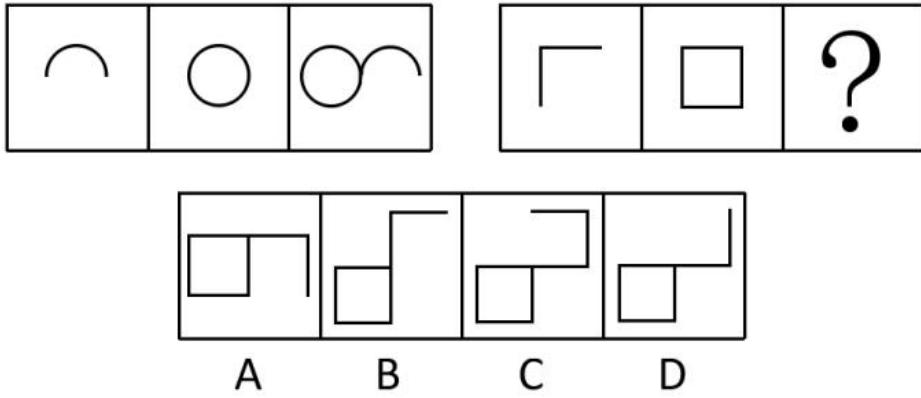
A

B

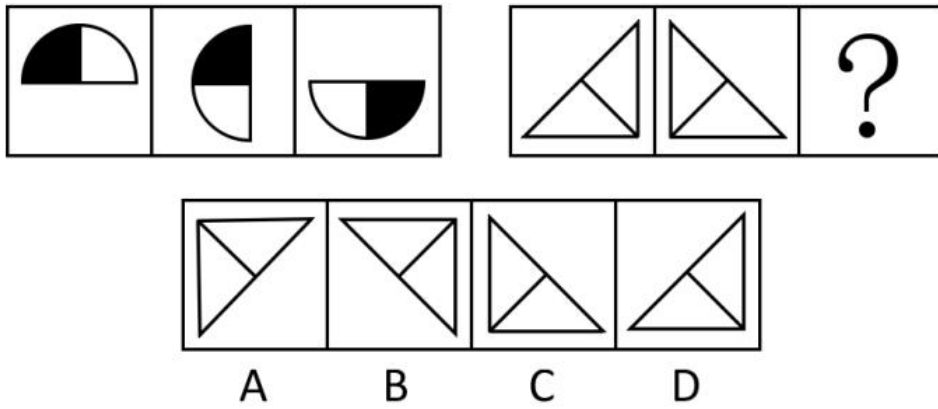
C

D

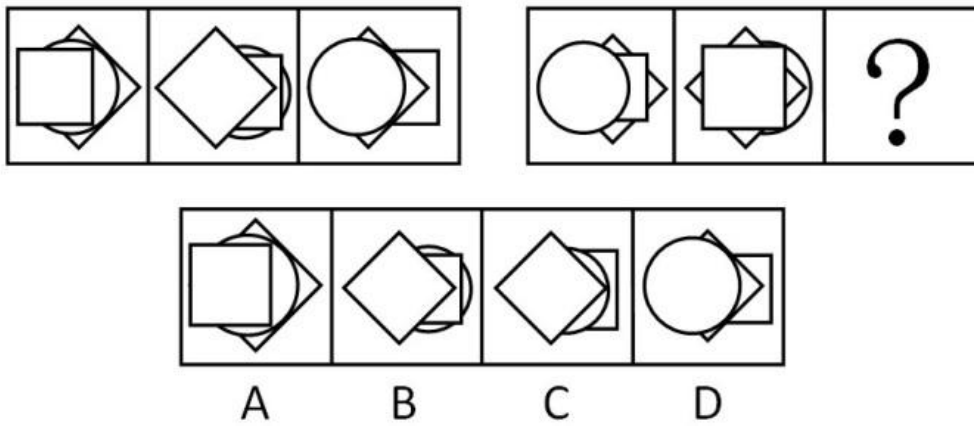
77. 请选择最合适的一项填入问号处，使右边图形的变化规律与左边图形一致：（ ）



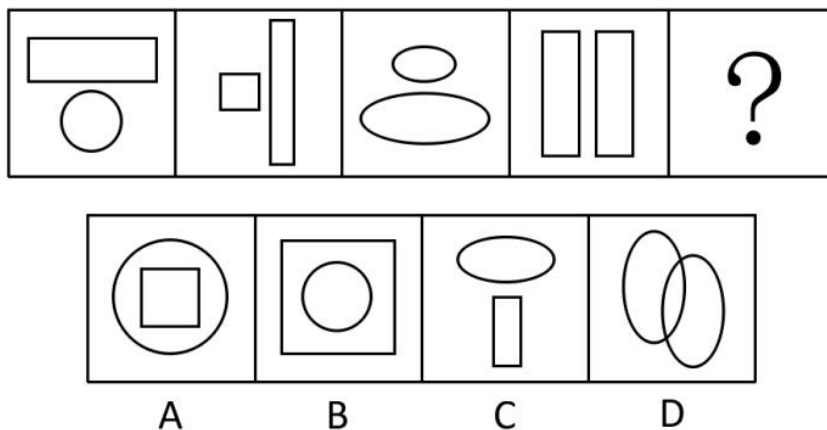
78. 请选择最合适的一项填入问号处，使右边图形的变化规律与左边图形一致：（ ）



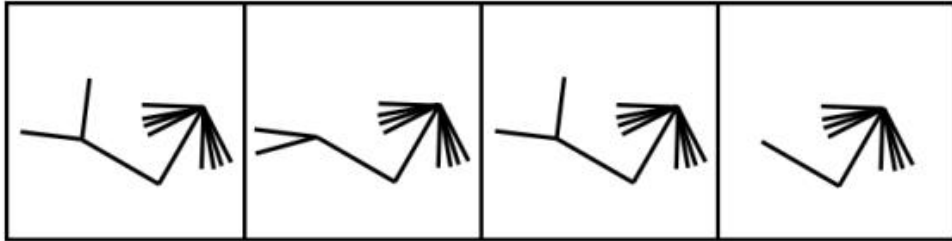
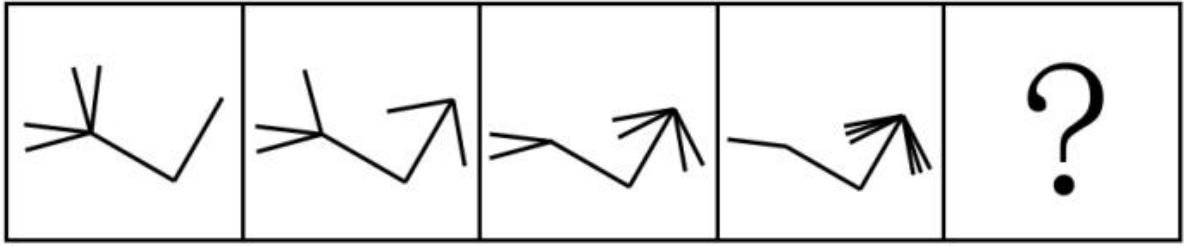
79. 请选择最合适的一项填入问号处，使右边图形的变化规律与左边图形一致：（ ）



80. 请选择最合适的一项填入问号处，使之符合之前四个图形的变化规律：（ ）



81. 请选择最合适的一项填入问号处，使之符合之前四个图形的变化规律：（ ）



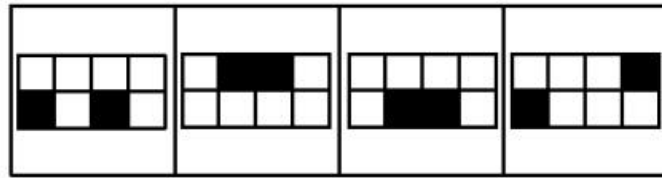
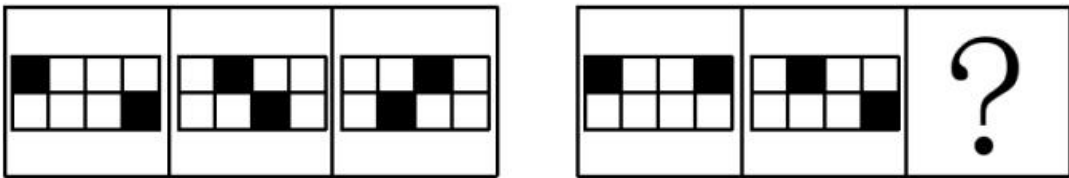
A

B

C

D

82. 请选择最合适的一项填入问号处，使右边图形的变化规律与左边图形一致：（ ）



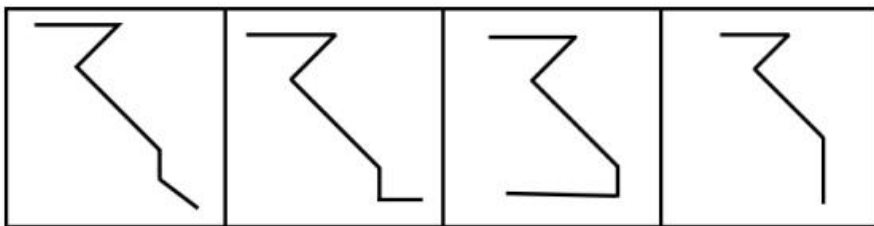
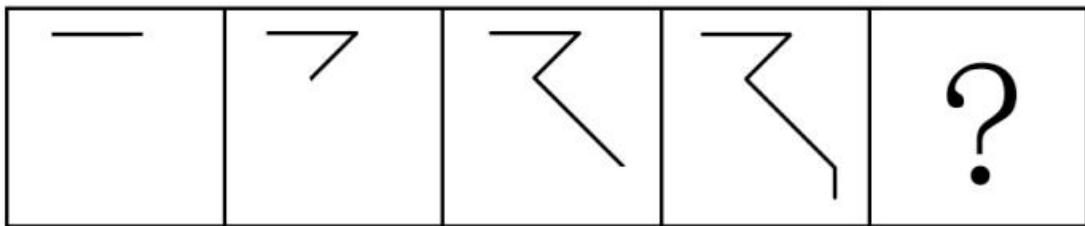
A

B

C

D

83. 请选择最合适的一项填入问号处，使之符合之前四个图形的变化规律：（ ）



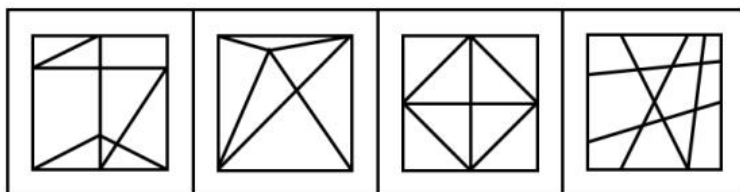
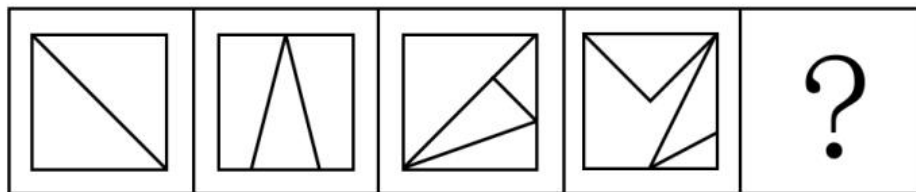
A

B

C

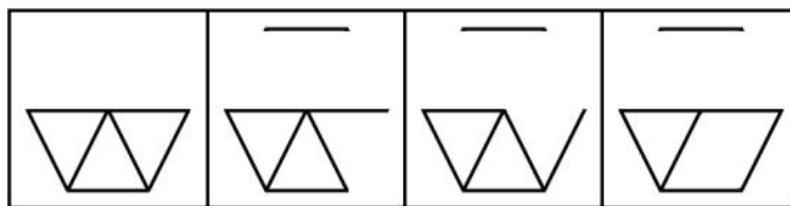
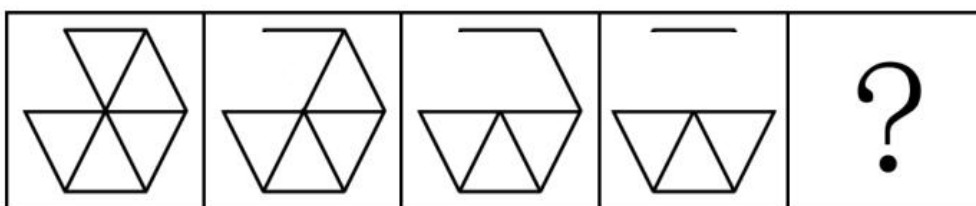
D

84. 从所给的四个选项中，选择最合适的一个填入问号处。使之呈现一定的规律性。（ ）



A B C D

85. 请选择最合适的一项填入问号处，使之符合之前四个图形的变化规律：（ ）



A B C D

五、资料分析

材料

部分城市 2000 年面积、人口与 GDP 情况

城市	面积 (km ²)	人口 (万人)	GDP (亿元)
上海	857.94	928.21	4098.64
北京	1516.22	635.38	2332.31
深圳	401.95	300	1665.24
重庆	141.09	460.77	786.2
广州	328.08	401.8	2125.11
天津	391.07	481.57	1392.88

部分城市 2010 年面积、人口与 GDP 情况

城市	面积 (km ²)	人口 (万人)	GDP (亿元)
上海	1514.52	1921.32	14875.8
北京	2416.48	1491.8	11972
深圳	692.48	891.23	8201.32
重庆	263.39	800.11	4891.58
广州	637.05	654.68	8409.75
天津	779.6	580.4	7030.25

86. 2000 年 GDP 总量最高城市的人均 GDP 约为多少元? ()
- A、44000 B、61000 C、80000 D、128000
87. 相对于 2000 年, 2010 年面积增加最多的城市是: ()
- A、上海 B、北京 C、深圳 D、广州
88. 2010 年单位面积人口密度最大的城市是: ()
- A、上海 B、北京 C、深圳 D、重庆
89. 2010 年比 2000 年单位面积 GDP 增长率最高的城市是: ()
- A、重庆 B、北京 C、上海 D、天津
90. 下述说法中不能从材料中得出的是: ()
- A、2000 年和 2010 年广州的 GDP 总量在六个城市中均排在第三位
- B、2010 年天津的面积比 2000 年增加了约 388km^2
- C、从 2000 年到 2010 年, 六个城市的单位面积 GDP 排名没有变化
- D、相对于 2000 年, 2010 年天津的人口数量在六个城市中的排名出现下降

材料

2012 年, 某区 60 岁以上户籍老年人口 (下简称户籍老年人口) 23.61 万, 占户籍总人口的 22.6%。2012 年户籍老年人口规模比 2000 年翻了一番, 占户籍总人口的比重比 2000 年上升了 5.4 个百分点。80 岁以上的户籍高龄老年人口达到 3.89 万人, 人口规模比 2000 年翻了两番。

2012 年, 该区共有公办、民营两种性质的养老机构 42 家, 比 2006 年增加了 14 家。共有养老床位 8141 张, 其中公办养老床位数 4401 张。2006 年以来, 公办养老机构床位数平均每年增加 523 张, 民办床位数平均每年增加 190 张。

2012 年, 该区养老机构共有入住老人 5179 名; 从 2006 年到 2012 年, 养老机构入住老人数量平均

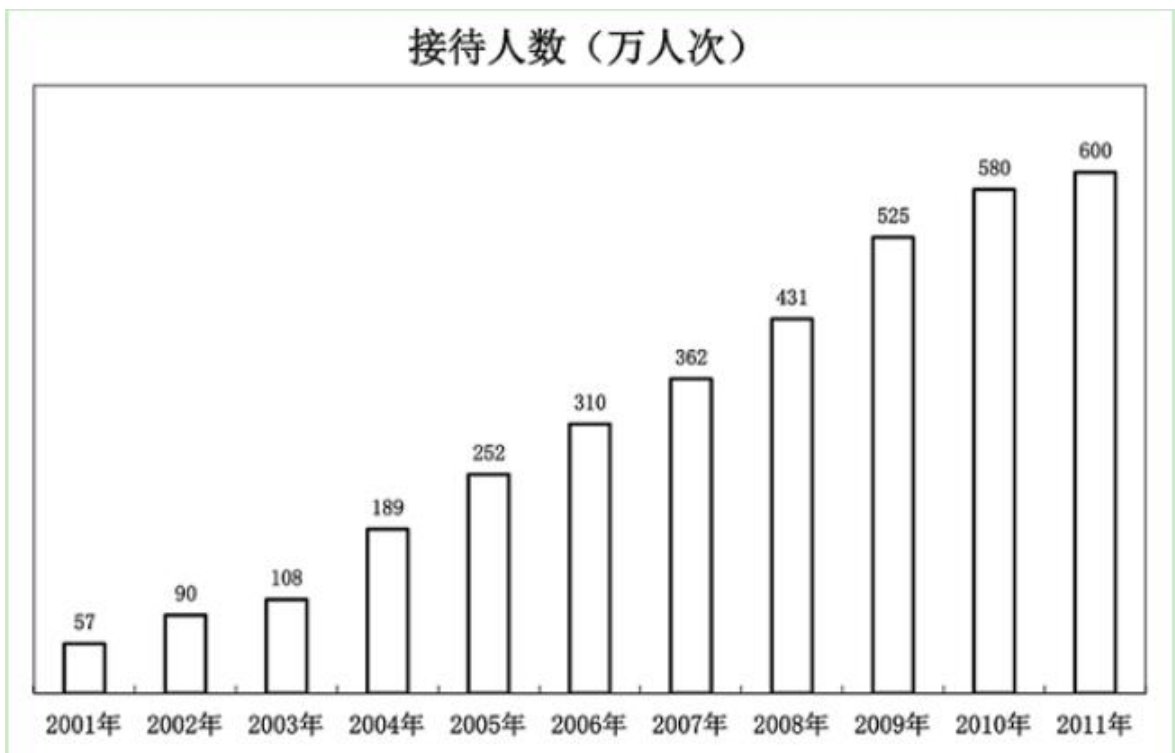
每年增加 327 名。

预计到 2015 年末，该区户籍老年人口将增长至 31 万，约占全区户籍人口的 28%；同时，户籍高龄老年人口占户籍老年人口比重也将进一步上升。

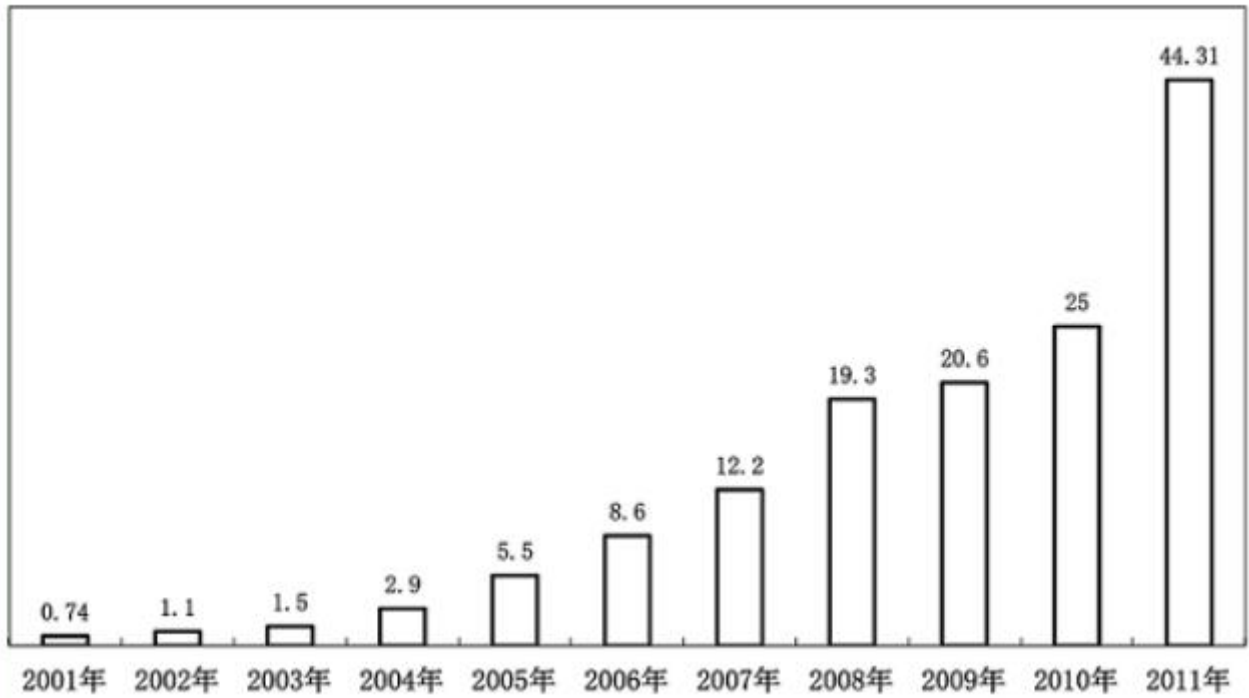
91. 2000 年户籍老年人口占户籍总人口的比重是：（ ）
- A、14.7% B、16.5% C、17.2% D、22.6%
92. 2006 年，该区共有养老床位数多少张：（ ）
- A、3150 B、3863 C、4231 D、4576
93. 2012 年，该区养老机构的床位入住率大约为：（ ）
- A、64% B、69% C、75% D、84%
94. 如果该区计划到 2015 年每千户籍人口所拥有的养老床位数量比 2012 年翻倍，则到 2015 年养老机构还需要增加约多少张养老床位：（ ）
- A、8000 B、9000 C、11000 D、13000
95. 根据上述材料，以下选项错误的是：（ ）
- A、2000 年以来，该区户籍老年人口的增速要高于户籍人口的增速
- B、预计到 2015 年末，该区户籍高龄老年人口的增速将快于户籍老年人口的增速
- C、2006 年以来，该区公办养老床位的增速要快于民办养老床位的增速
- D、2006 年以来，该区入住养老机构的老人增速要高于该区养老床位的增速

材料

F 县旅游经济数据：



旅游收入（亿元）



旅游收入占全县 GDP 比重

2001 年	2005 年	2010 年
8.8%	43.7%	63.2%

96. 相比较于 2005 年，2010 年该县的 GDP 值：（ ）
- A、增长了 12.6 亿元 B、增长了 21.4%
- C、增长了 27 亿元 D、增长了 314%
97. 到该县的游客中，人均旅游费用支出 $(\frac{\text{旅游收入}}{\text{接待人数}})$ 增长最快的一年是：（ ）
- A、2001 年 B、2004 年 C、2008 年 D、2011 年
98. 假设 2001 ~ 2005 年间，该县 GDP 逐年稳定增长且每年增幅相同，那么 2004 年该县 GDP 约比 2001 年增长了：（ ）
- A、40% B、35% C、30% D、25%
99. 根据材料，下列说法正确的是：（ ）
- A、2007 年该县旅游接待人数比 2002 年翻了四番
- B、2005 年来该县旅游的人均支出约为 740 元
- C、同比前一年，只有 2009 年来该县旅游的人均支出是有所减少的
- D、同比前一年，2003 年是该县旅游接待人数增加最少的一年
100. 根据材料，能得出的结论是：（ ）
- A、该县旅游的生态环境不断改善，吸引力日益增强

- B、该县旅游收入占全县 GDP 的比重日益上升
- C、2012 年该县旅游收入将保持 2011 年的增速，实现高增长
- D、生态环境日益受重视，人均旅游花费呈稳步上升的态势